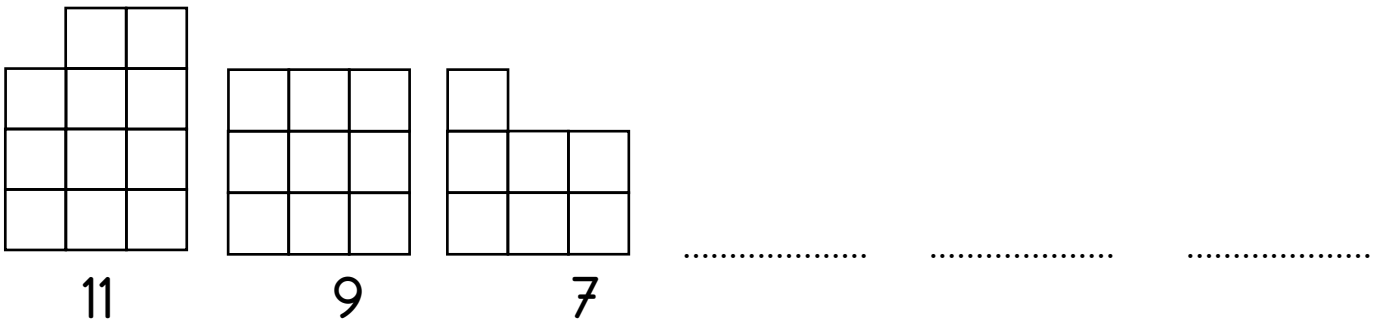




Aşağıdaki şekil ve sayı örüntülerini inceleyelim. Örüntüleri 3 adım devam ettirelim. Örüntülerin kurallarını yazalım.

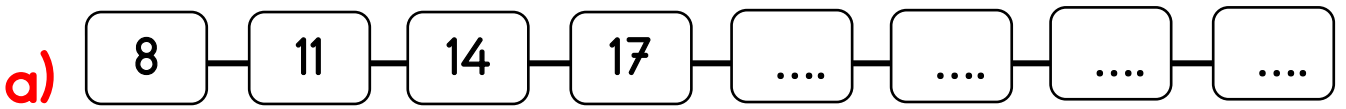


Örüntünün kuralı:

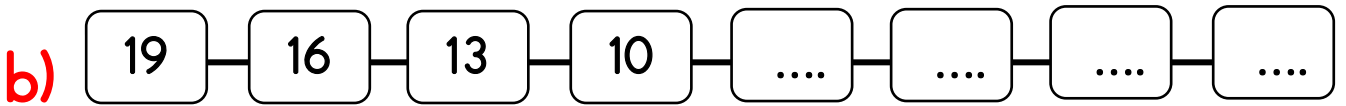


Örüntünün kuralı:

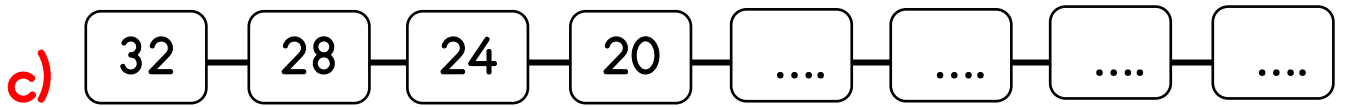
Aşağıdaki örüntülerde önce örüntünün kuralını bulunuz. Sonra da kuralına uygun olacak şekilde boşlukları doldurunuz.



Örüntünün kuralı:



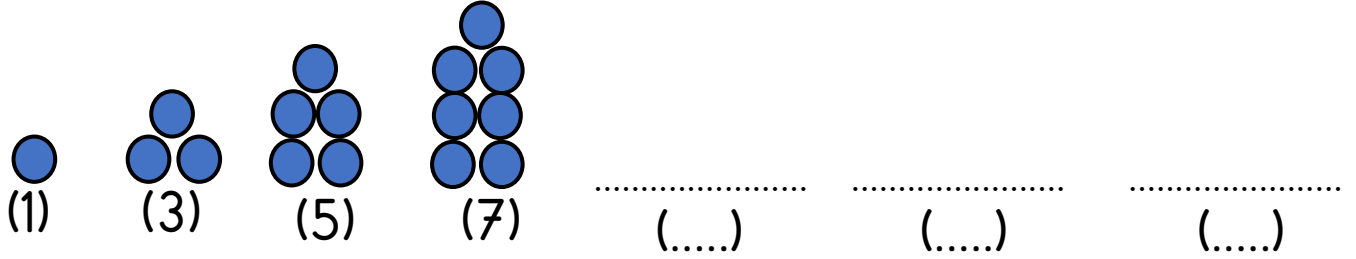
Örüntünün kuralı:



Örüntünün kuralı:

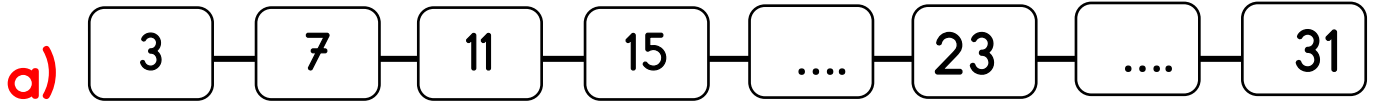


Aşağıdaki şekil ve sayı örüntüsünü inceleyelim. Örüntüyü 3 adım devam ettirelim. Örüntünün kuralını yazalım.

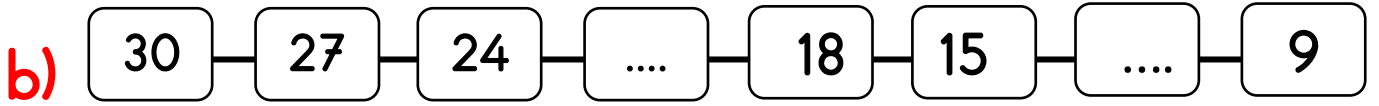


Örüntünün kuralı:

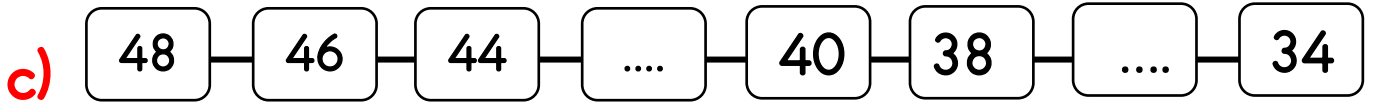
Aşağıdaki sayı örüntülerini tamamlayıp kuralını yazınız.



Örüntünün kuralı:



Örüntünün kuralı:



Örüntünün kuralı:

Aşağıdaki örüntülerde verilmeyen sayıları yazınız.

