

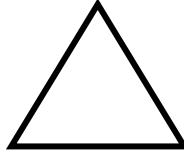
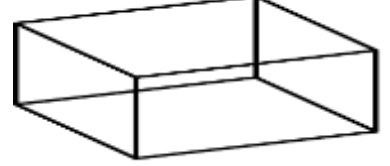
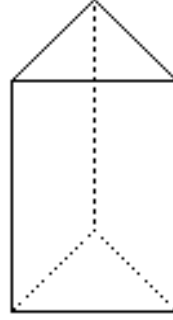

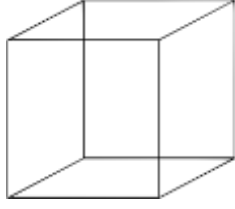


# GEOMETRİK CİSİMLER

Aşağıdaki cisimlerin bir yüzü kullanılarak şekiller çizilmiştir. Çizilen şekilleri ait olduğu geometrik cisim ile eşleştiriniz.



Aşağıdaki ifadelerden doğru olanlara D yanlış olanlara Y yazınız.

(.....) Üçgen prizmanın bir yüzü ile kare çizilebilir.

(.....) Dikdörtgen prizmanın bir yüzü ile dikdörtgen çizilebilir.

(.....) Kare prizmanın bir yüzü ile üçgen çizilebilir.

(.....) Kürenin ve silindirin yüzeyi eğridir.

(.....) Dikdörtgen prizma, küp, üçgen prizma ve kare prizmanın yüzeyleri düzdür.

Aşağıdaki noktalı yerlere verilen ifadelerden uygun olanı yazınız.

köşeli -  kare -  çember -  silindire -  kürenin

1. Silindirin ve ..... köşeleri yoktur.
2. Küpün yüzeyleri ..... dir.
3. Borular ..... örnek olabilir.
4. Silindirin bir yüzü kullanılarak .....çizilebilir.
5. Üçgen prizma ..... bir geometrik cisimdir.