


Uzunluk Ölçme


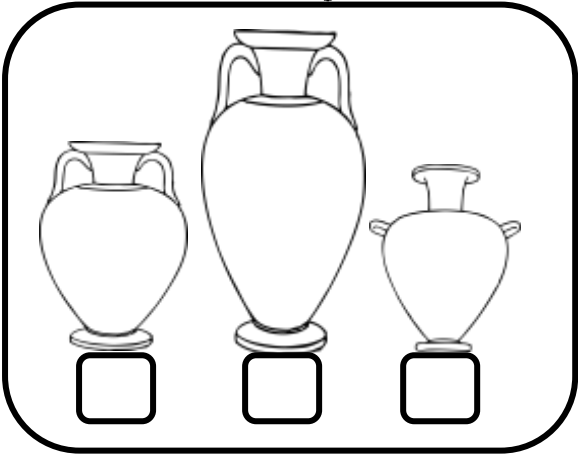
En uzun kalemi pembeye, en kısa kalemi sarıya boyayınız.



Aşağıdaki nesnelere uzun dan kısaya doğru sıralasaydık en başta hangisi olurdu? İşaretleyiniz.



Aşağıdaki nesnelere kısıdan uzuna doğru sıralasaydık en başta hangisi olurdu? İşaretleyiniz.



Aşağıdaki nesnelere uzunluklarını kısıdan uzuna doğru sıra sayılarıyla sıralayınız.

