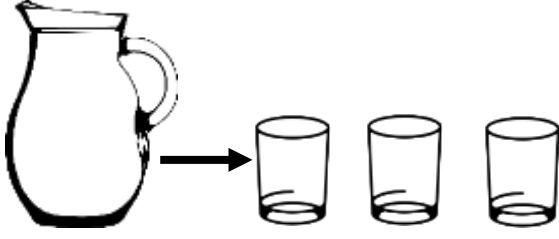


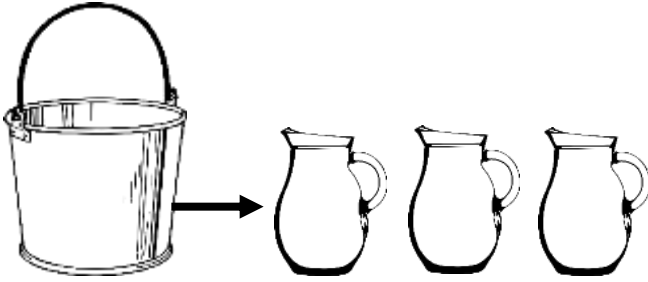
SIVILARI ÖLÇELİM VE KARŞILAŞTIRALIM

Görselleri inceleyiniz. Noktalı yerleri uygun sözcüklerle tamamlayınız.



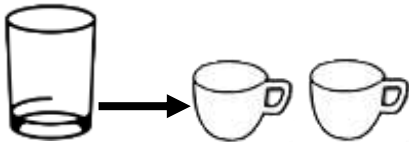
Bir sürahi 4 bardak su alıyor.

- a) 2 sürahi bardak su alır.
- b) 4 sürahi bardak su alır.
- c) 5 sürahi bardak su alır.



Bir kova 3 sürahi su alıyor.

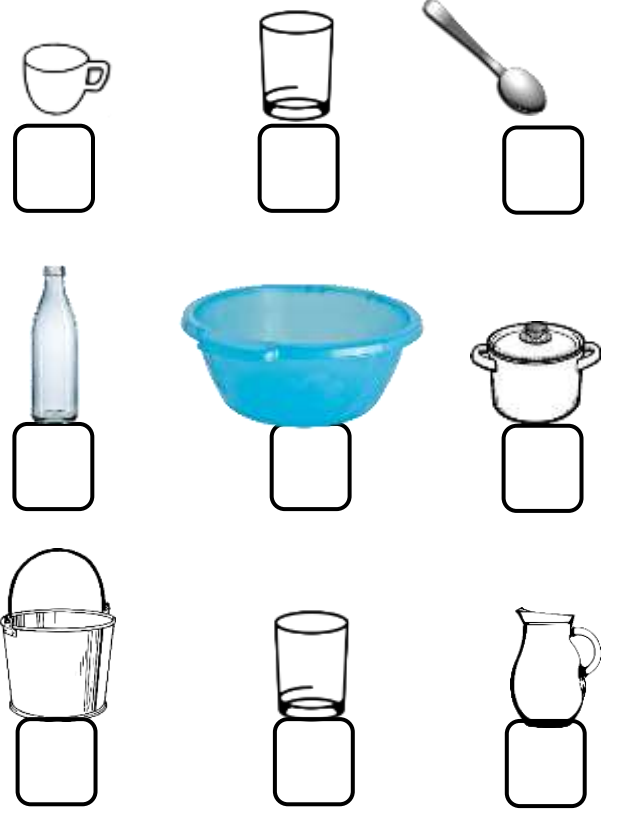
- a) 2 kova sürahi su alır.
- b) 3 kova sürahi su alır.
- c) 4 kova sürahi su alır.
- ç) 3 sürahikovayı doldurabilir.



Bir bardak 2 fincan su alıyor.

- a) 2 bardak fincan su alır.
- b) 5 bardak fincan su alır.

Aşağıdaki kapları en az sıvı alandan en çok sıvı alana doğru kutucukları 1, 2, 3 rakamları ile uygun şekilde doldurunuz.



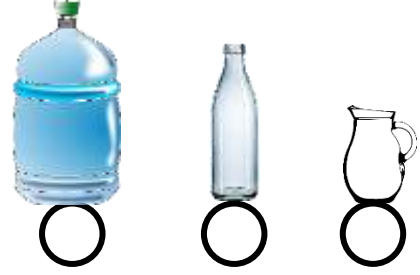

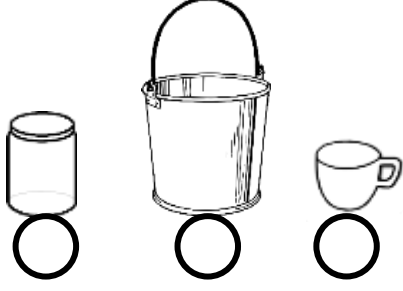
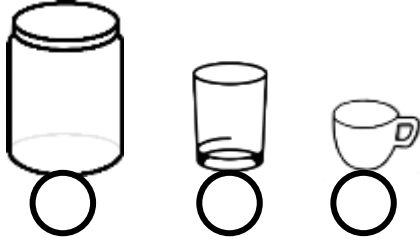
Aşağıdaki görsel ile ilgili aşağıda verilen bilgilerden doğru olanların başına (D) yanlış olanların başına (Y) yazınız.




- ()Sürahi fincandan daha çok sıvı alır.
- ()Bardak sürahiden daha çok sıvı alır.
- ()Fincan sürahiden daha az sıvı alır.
- ()Bardak fincandan daha çok sıvı alır.
- ()Fincan bardaktan daha az sıvı alır.

SIVILARI ÖLÇELİM VE KARŞILAŞTIRALIM


Aşağıda verilen görselleri inceleyip en çok sıvı alan kabın kutucuğunu işaretleyelim.



Aşağıda verilen görselleri inceleyip örnekteki gibi karşılaştıralım.



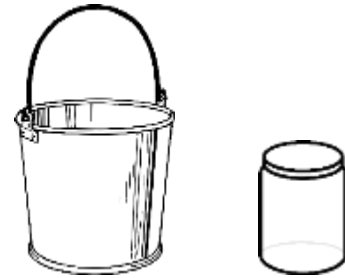
Kavanoz bardaktan **fazla** sıvı alır.
Bardak kavanozdan **az** sıvı alır.



Tencere fincandan sıvı alır.
Fincan tencereden sıvı alır.



Leğen sürahiden sıvı alır.
Sürahi leğenden sıvı alır.



Kova kavanozdan sıvı alır.
Kavanoz kovadan sıvı alır.