


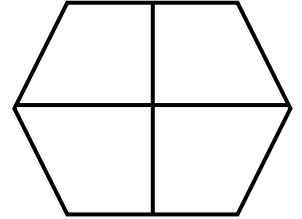
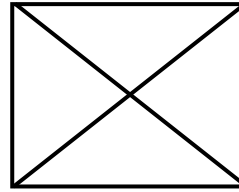
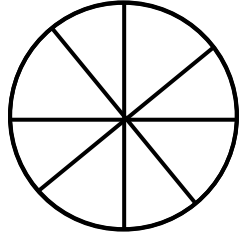

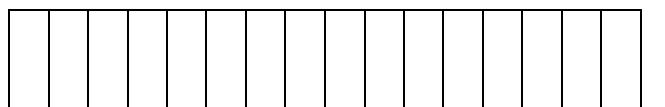
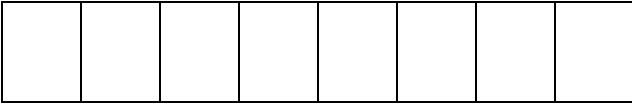

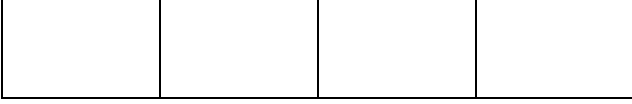


BÜTÜN, YARIM VE ÇEYREK

Aşağıdaki bütünlerin yarısını boyyalım.



Aşağıdaki bütünlerin çeyreklerini boyyalım.



Aşağıdaki resimleri inceleyiniz. Noktalı yerleri tamamlayınız.



- 1 bütün ekmekte yarım ekmek vardır.
- 1 yarım ekmekte çeyrek ekmek vardır.
- 1 bütün ekmekte çeyrek ekmek vardır.
- 4 çeyrek ekmek yarım ekmek eder.
- 2 çeyrek ekmek yarım ekmek eder.
- 2 bütün ekmekte yarım ekmek vardır.
- 2 yarım ekmekte çeyrek ekmek vardır.
- 2 yarım, 4 çeyrek ekmek bütün ekmek eder.
- 6 yarım, 8 çeyrek ekmek bütün ekmek eder.
- 4 yarım, 8 çeyrek ekmek yarım ekmek eder.