


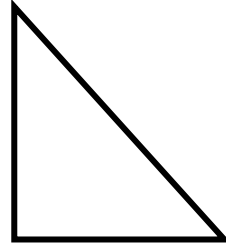

GEOMETRİK ŞEKİLLER

1. Aşağıdaki cümlelerdeki boşlukları uygun ifadelerle doldurunuz.

çemberin - dikdörtgen - kare - dörtgen - üçgen - dikdörtgenin - karenin

- a. Üç kenarı ve üç köşesi olan geometrik şekilleri olarak adlandırırız.
- b. Dört köşesi ve dört kenarı olan geometrik şekilleri olarak adlandırırız.
- c. Aynı uzunluktaki dört kenardan oluşan şekli olarak adlandırırız.
- ç. kenarların hepsi aynı uzunluktadır.
- d. Aynı uzunluktaki iki uzun kenar ve aynı uzunluktaki iki kısa kenardan oluşan dört kenarlı şekliolarak adlandırırız.
- e. aynı uzunlukta iki uzun, iki kısa kenarı vardır.
- f. köşesi ve kenarı yoktur.

2. Aşağıdaki geometrik şekillerin adlarını yazınız.



.....

.....

.....

.....

3. Aşağıdaki cümlelerdeki boşlukları görsele göre doldurunuz.



Evin çatısı şeklindedir.

Evin kapısı şeklindedir.

Evin penceresi şeklindedir.

Evin çatı penceresişeklindedir.