

KESİRLER (Bütün – Yarım)

Bütün

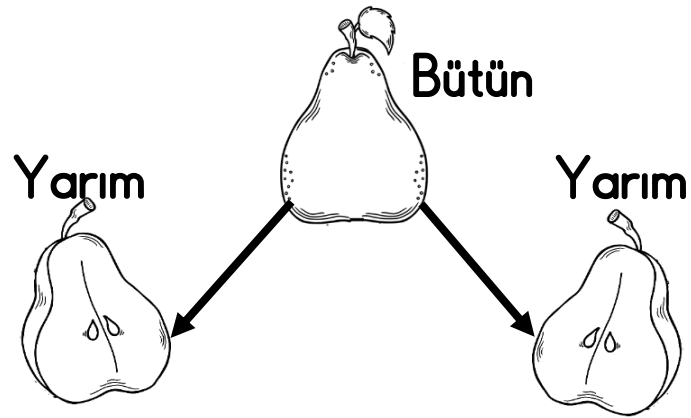


Yarım



Ali ve kardeşi Ahmet armut yemek istiyorlar. Evde yalnızca 1 bütün armut var. Öyleyse ne yapacaklar? Ali ve kardeşi bir bütün armudu iki eşit parçaya ayırıp paylaşıyorlar.

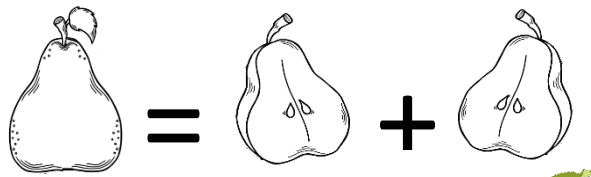
Bir bütün armut
2 yarım armuttur.



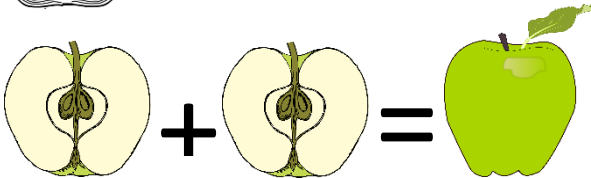
Yarımlar birbirine eşittir.

Bir bütünü oluşturan iki eş parçanın her birine **yarım** denir.

1 bütün 2 yarım eder.




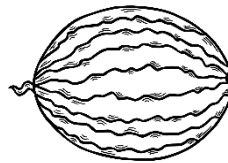
2 yarım 1 bütün eder.



Aşağıdaki resimlerin altlarına "bütün" ve "yarım" ifadelerinden uygun olanı yazınız.





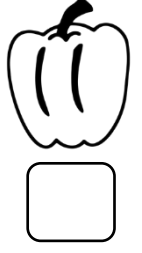

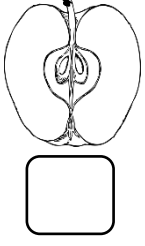






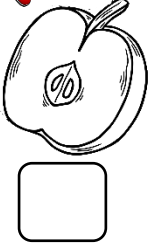
KESİRLER (Bütün – Yarım)






Bütün olan varlıkları işaretleyiniz.



Yarım olan varlıkları işaretleyiniz.



Aşağıda bütün olarak verilen nesnelere yarım ile eşleştiriniz.



Aşağıdaki geometrik şekillerden her birinin yarısını boyayınız.

