


# ZAMANI ÖLÇME

Zamanı ölçmek için kullanılan araca **saat** denir.

Akrep, saati gösterir.




→ Akrep

→ Yelkovan

Yelkovan, dakikayı gösterir.

Aşağıdaki saatlerin öğleden önce ve öğleden sonra okunuşlarını yazınız.




Öğleden önce

04.30

Öğleden sonra

16.30




Öğleden önce

.....

Öğleden sonra

.....




Öğleden önce

.....

Öğleden sonra

.....




Öğleden önce

.....

Öğleden sonra

.....




Öğleden önce

.....

Öğleden sonra

.....



Öğleden önce

.....

Öğleden sonra

.....




Öğleden önce

.....

Öğleden sonra

.....




Öğleden önce

.....

Öğleden sonra

.....



Öğleden önce

.....

Öğleden sonra

.....