



### \* Nesneleri Eşit Olarak Paylaştırma

Nasrettin Hoca torbasındaki 10 cevizi mahallesindeki 5 çocuğa eşit olarak paylaşmak istiyor. Nasrettin Hoca çocukların her birine kaç ceviz verir?

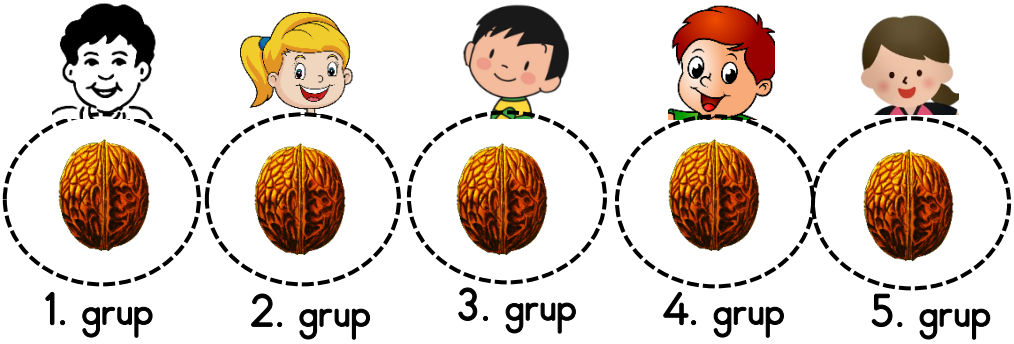
Nasrettin Hoca'nın 10 cevizi 5 çocuğa eşit olarak paylaşalım.



Önce 5 çocuğa birer ceviz veriyoruz.

1. paylaşım

$10 - 5 = 5$




1. grup      2. grup      3. grup      4. grup      5. grup

Sonra 5 çocuğa birer ceviz daha veriyoruz.

2. paylaşım


$5 - 5 = 0$




1. grup      2. grup      3. grup      4. grup      5. grup



Paylaşılacak çokluğun verilen sayıda, eşit gruplara ayrılması işini yapmış olduk. 10 cevizi eşit olarak 5 kişiye bölüştürdük. Her çocuk ikişer ceviz aldı.



 Bir çokluk her gruba eşit olacak şekilde paylaşılırsa her gruba düşen nesne sayısı buluruz.

Toplam ceviz sayısı : ..... 10 .....

Çocuk (grup) sayısı : ..... 5 .....

Gruptaki ceviz sayısı : ..... 2 .....