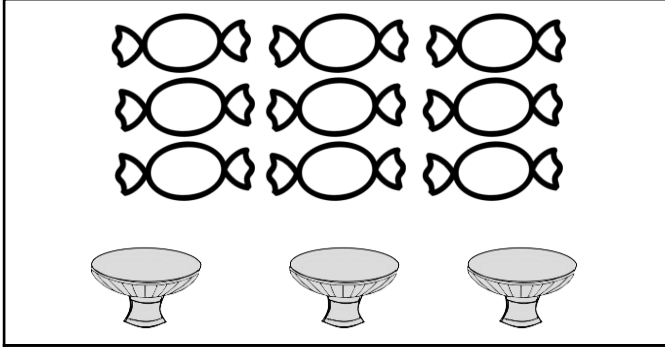


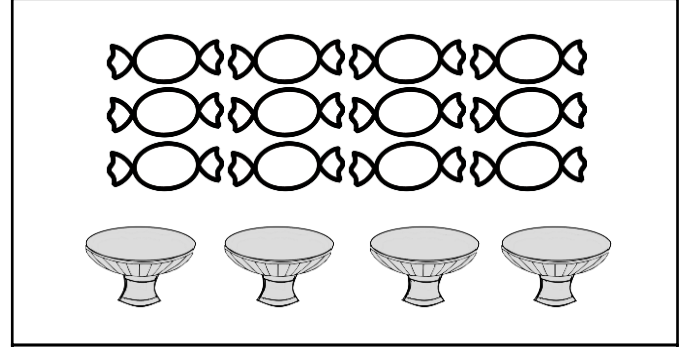
GRUPTAKİ NESNE SAYISINI BULMA




Aşağıdaki görsellere göre istenilen bilgileri örnekteki noktalı yerlere yazınız.




Toplam şeker sayısı :9.....
Şekerlik (grup) sayısı :3.....
Gruptaki şeker sayısı :3.....



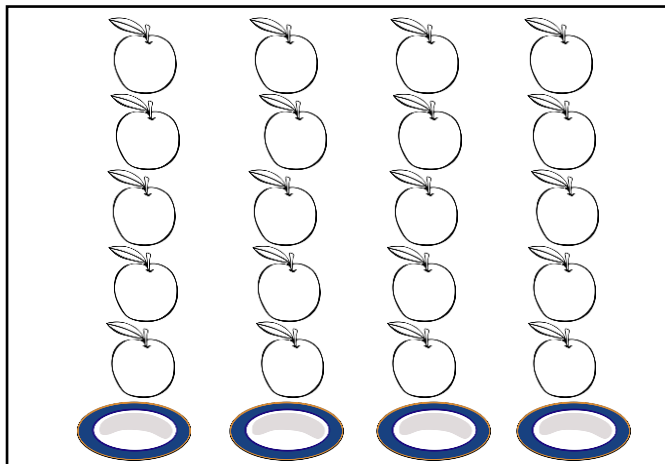
Toplam şeker sayısı :
Şekerlik (grup) sayısı :
Gruptaki şeker sayısı :



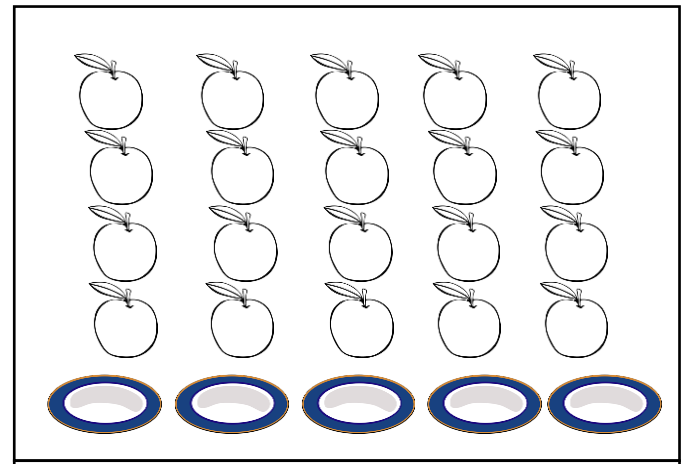
Toplam çiçek sayısı :
Vazo (grup) sayısı :
Gruptaki çiçek sayısı :



Toplam çiçek sayısı :
Vazo (grup) sayısı :
Gruptaki çiçek sayısı :



Toplam elma sayısı :
Tabak (grup) sayısı :
Gruptaki elma sayısı :



Toplam elma sayısı :
Tabak (grup) sayısı :
Gruptaki elma sayısı :