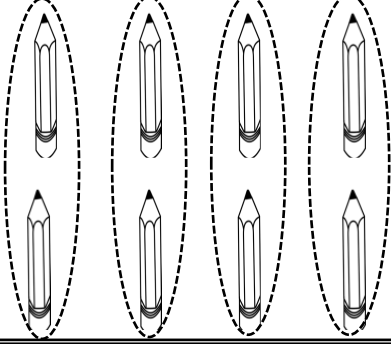


GRUP SAYISINI BELİRLEME

 Aşağıdaki varlıkları, belirtilen sayıda gruplara ayıralım. Kaç grup olduğunu örnekteki gibi yazalım.


8 kalemi ikiye gruplandırınız.



Kalem sayısı :8.....

Grup sayısı :4.....

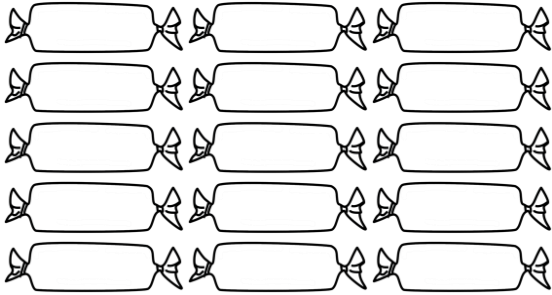
12 topu dörderli gruplandırınız.



Top sayısı :

Grup sayısı :

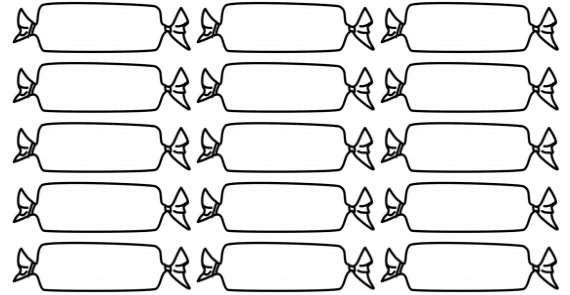
15 şekeri üçerli gruplandırınız.



Şeker sayısı:

Grup sayısı :


15 şekeri beşerli gruplandırınız.



Şeker sayısı:

Grup sayısı :

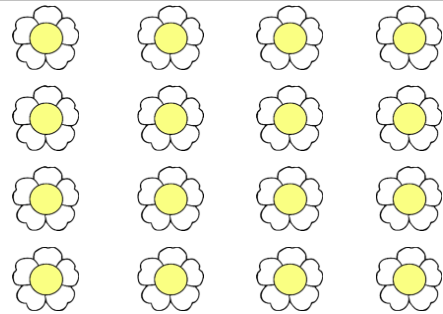
18 balonu üçerli gruplandırınız.



Balon sayısı :

Grup sayısı :

16 çiçeği dörderli gruplandırınız.



Çiçek sayısı :

Grup sayısı :