




## \* Grup Sayısını Belirleme

Nasrettin Hoca torbasındaki 10 cevizi mahallesindeki çocuklara ikiye ikiye paylaşmak istiyor. Nasrettin Hoca kaç çocuğa ceviz verir?



Nasrettin Hoca'nın kaç çocuğa ceviz verdiğini gruplandırarak bulalım.




Nasrettin Hoca, cevizleri ikiye ikiye paylaştığında 5 çocuğa ceviz verir.

\*10 ceviz ikiye ikiye paylaştığında kaç grup olur?


10 ceviz ikiye ikiye paylaştığında 5 grup olur.

\*10'un içinde 2 kaç defa vardır?

10'un içinde 2, 5 defa vardır?


 Aşağıdaki varlıkları, belirtilen sayıda gruplara ayıralım. Kaç grup olduğunu örnekteki gibi yazalım.

6 şekeri ikiye ikiye gruplandırınız.



Şeker sayısı : .....6.....  
Grup sayısı : .....3.....

6 şekeri üçer üçer gruplandırınız.



Şeker sayısı : .....  
Grup sayısı : .....

8 düğmeyi dörder dörder gruplandırınız.



Düğme sayısı : .....  
Grup sayısı : .....

10 topu beşer beşer gruplandırınız.



Top sayısı : .....  
Grup sayısı : .....