


# GRUPTAKİ NESNE SAYISINI BULMA




Bir çokluk her gruba eşit olacak şekilde paylaştırılırsa her gruba düşen nesne sayısını buluruz.


Aşağıdaki görsellere göre istenilen bilgileri örnekteki noktalı yerlere yazınız.




Toplam top sayısı : .....4.....  
Çocuk (grup) sayısı : .....2.....  
Gruptaki top sayısı : .....2.....




Toplam top sayısı : .....  
Çocuk (grup) sayısı : .....  
Gruptaki top sayısı : .....



Toplam top sayısı : .....  
Çocuk (grup) sayısı : .....  
Gruptaki top sayısı : .....



Toplam top sayısı : .....  
Çocuk (grup) sayısı : .....  
Gruptaki top sayısı : .....



Toplam top sayısı : .....  
Çocuk (grup) sayısı : .....  
Gruptaki top sayısı : .....



Toplam top sayısı : .....  
Çocuk (grup) sayısı : .....  
Gruptaki top sayısı : .....