
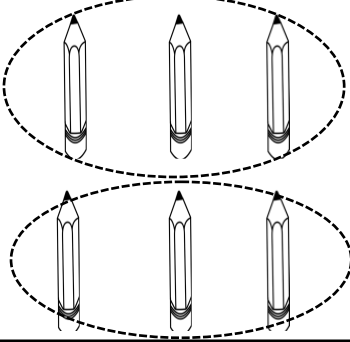


# GRUP SAYISINI BELİRLEME



Aşağıdaki varlıkları, belirtilen sayıda gruplara ayıralım. Kaç grup olduğunu örnekteki gibi yazalım.


6 kalemı üçerli gruplandırınız.



Kalem sayısı : ....6.....

Grup sayısı : ....2.....

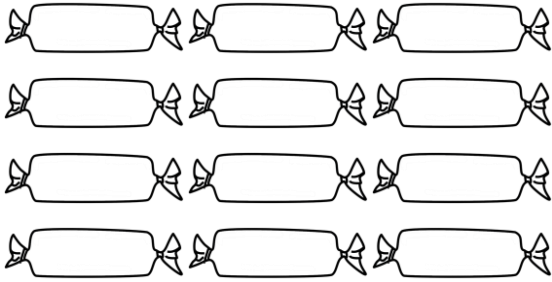
12 topu üçerli gruplandırınız.



Top sayısı : .....

Grup sayısı : .....

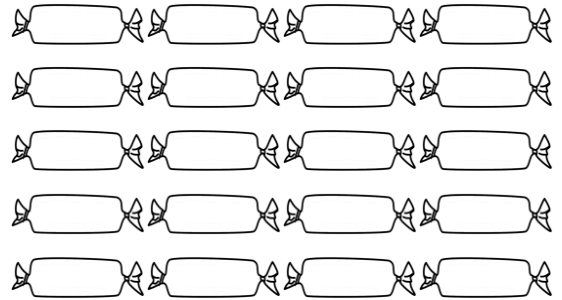
12 şekeri dörderli gruplandırınız.



Şeker sayısı : .....

Grup sayısı : .....


20 şekeri dörderli gruplandırınız.



Şeker sayısı : .....

Grup sayısı : .....


9 havucu üçerli gruplandırınız.



Havuç sayısı : .....

Grup sayısı : .....

20 çiçeği beşerli gruplandırınız.



Çiçek sayısı : .....

Grup sayısı : .....