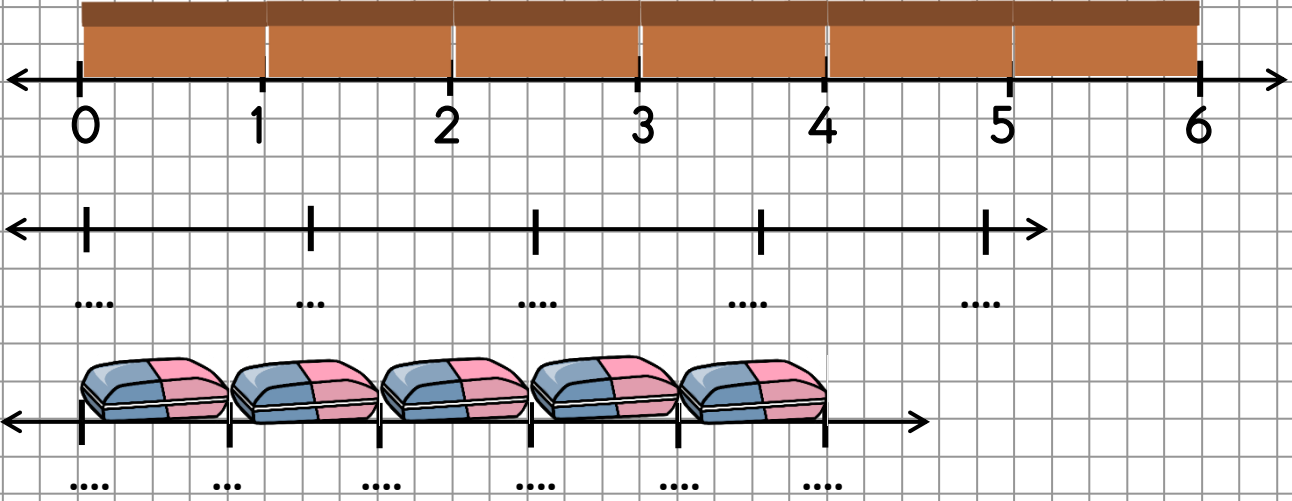
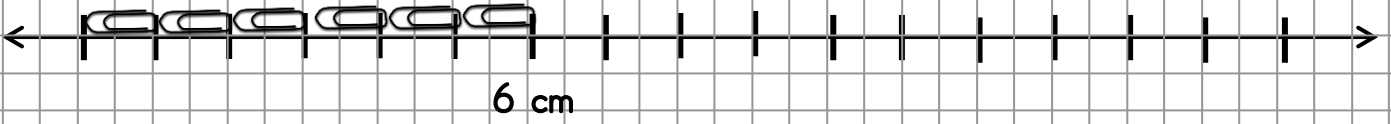


# SAYI DOĞRUSU

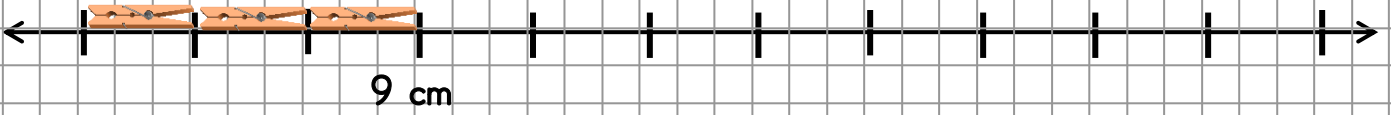
Sayı doğrusu modellerini örnekteki gibi tamamlayınız.



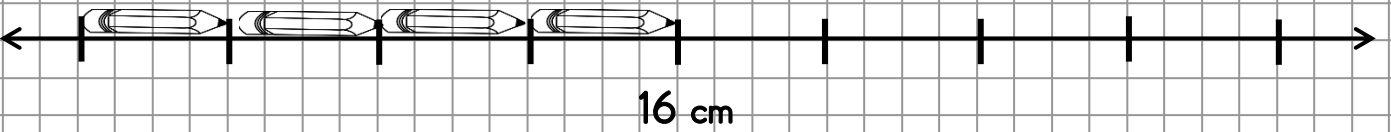
Sayı doğrusu modelinin tamamını oluşturmak için kaç varlık daha gerektiğini noktalı yerlere yazarak cümleyi tamamlayalım.




16 santimetrelük sayı doğrusunu tamamlamak için ..... atış daha gereklidir.




33 santimetrelük sayı doğrusunu tamamlamak için ..... mandal daha gereklidir.



32 santimetrelük sayı doğrusunu tamamlamak için ..... kalem daha gereklidir.



50 santimetrelük sayı doğrusunu tamamlamak için ..... şişe daha gereklidir.



30 santimetrelük sayı doğrusunu tamamlamak için ..... toka daha gereklidir.