


# BÜTÜN, YARIM VE ÇEYREK

Aşağıdaki bütünlerden kaç yarım elde edebileceğimizi yazınız.



2 bütün çilek .....yarım çilek eder.




3 bütün erik ..... yarım erik eder.

Aşağıdaki yarımlardan kaç bütün elde edebileceğimizi yazınız.



4 yarım kivi ..... bütün kivi eder.




6 yarım armut .....bütün armut eder.

Aşağıdaki cümleleri uygun sayıları yazarak tamamlayalım.


- ✓ 1 bütün ..... yarım eder.
- ✓ 1 bütün.....çeyrek eder.
- ✓ 1 yarım ..... çeyrek eder.
- ✓ 4 bütün ..... yarım eder.
- ✓ 2 çeyrek .....yarım eder.
- ✓ 2 yarım .....bütün eder.
- ✓ 4 çeyrek.....bütün eder.



Bütün




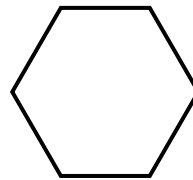
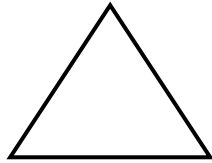
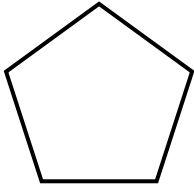
Yarım



Çeyrek

- ✓ 2 bütün ... yarım eder
- ✓ 4 yarım ..... bütün eder.
- ✓ 4 bütün .....çeyrek eder.
- ✓ 12 çeyrek ..... bütün eder.

Aşağıdaki şekillerin yarısını boyayalım.



Aşağıdaki şekillerin çeyreğini boyayalım.

