

Bütün - Yarım

Aşağıdaki cümleleri tamamlayınız.

Bir bütün yarımdır.

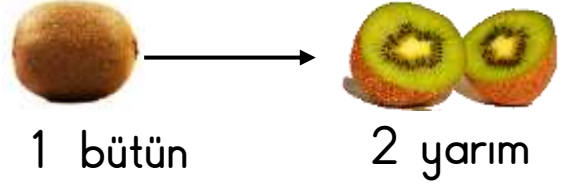
İki bütün yarımdır.

Üç bütün yarımdır.

İki yarım bütün oluşturur.

Dört yarım bütün oluşturur.

Altı yarım bütün oluşturur.



Aşağıdaki ifadelerden doğru olanların başına "D", yanlış olanların başına "Y" yazınız.

(.....) 4 bütün 8 yarımdan oluşur.

(.....) 1 bütün elma ile 2 yarım elma 3 bütün elma eder.

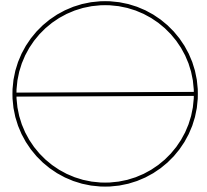
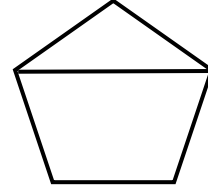
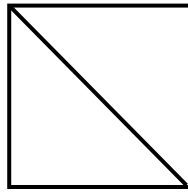
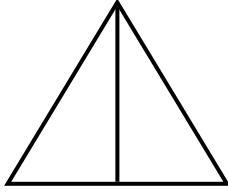
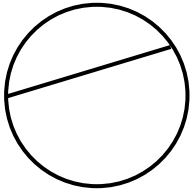
(.....) 4 yarım karpuz 3 bütün karpuzla eşittir.

(.....) 5 bütün ekmekte 8 yarım ekme vardır.

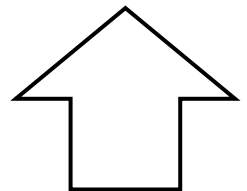


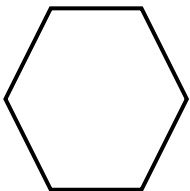
(.....) 3 bütün elmayı 6 kişi eşit paylaşırsa her biri yarım elma alır.

(.....) 10 yarım 4 bütüne eşittir.

Aşağıdaki bütünler parçalara ayrılmıştır. İki eş parçaya ayrılanları maviye, iki eş parçaya ayrılmayanları kırmızıya boyayınız.



Aşağıdaki şekilleri bir çizgiyle iki eş parçaya ayırınız ve yarımını farklı renklere boyayınız.



Aşağıdaki görsellerin altına bütün ve yarım ifadelerinden uygun olanı yazınız.

