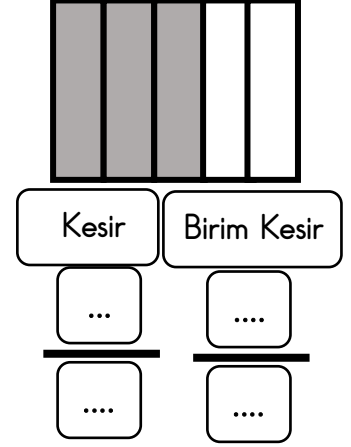
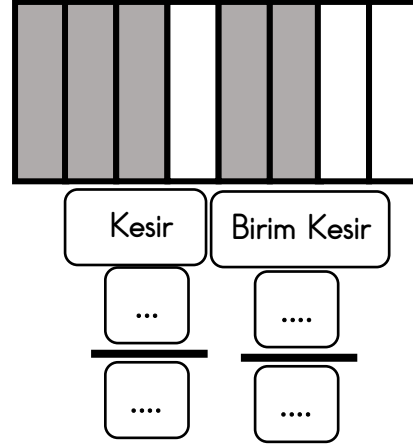
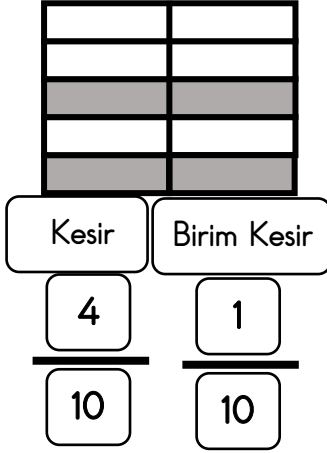
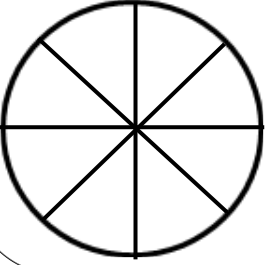


BİRİM KESİR

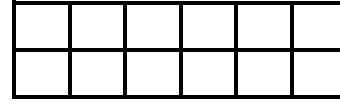
Aşağıdaki şekillerin kaçta kaçının boyalı olduğunu ifade eden kesirleri yazınız. Bu kesirlerin birim kesrini bulunuz.



Nil, pastayı 8 eş parçaya böldü. Bu parçaların 2'sini yedi. Nil'in yediği parçaların tüm pastanın kaçta kaç olduğunu ifade eden kesri yazınız. Bu kesrin birim kesrini bulunuz.



Nail bir bütünü 12 eş parçaya böldü. Bu parçaların 8 tanesini boyadı. Nail'in boyadığı parçaların bütünün kaçta kaç olduğunu ifade eden kesri yazınız. Bu kesrin birim kesrini bulunuz.



Aşağıdaki birim kesirleri modelleyerek çizelim. Daha sonra belirtilen kesir kadarını boyayalım.

$$\frac{1}{14}$$

$$\frac{1}{9}$$

$$\frac{1}{15}$$

$$\frac{1}{16}$$