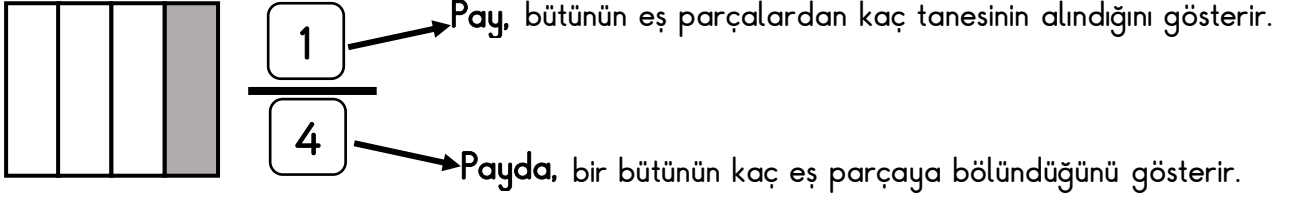
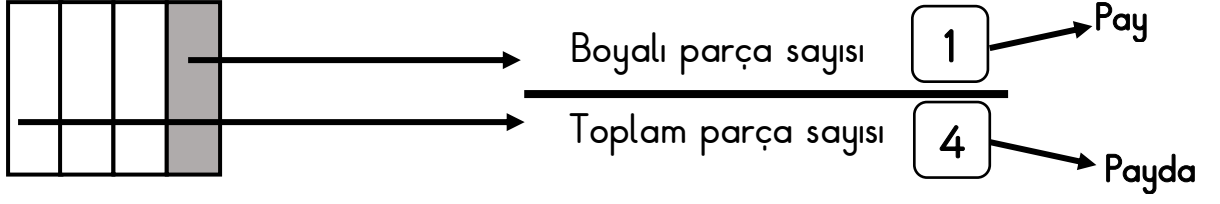
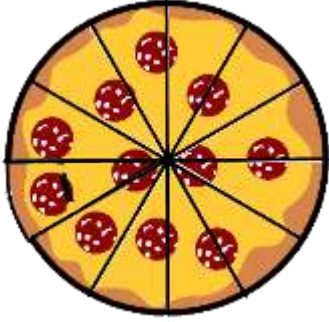


Kesrin Payı ve Paydası Arasındaki İlişki

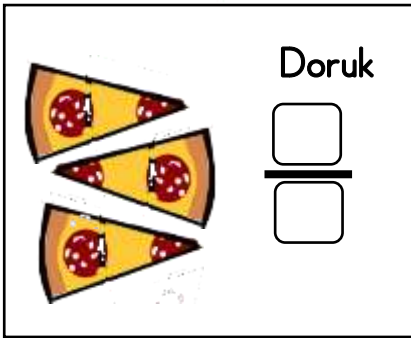


Pay ve payda arasında parça, bütün ilişkisi vardır.

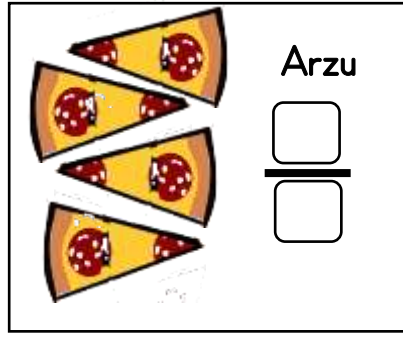
Arzu, Ahmet ve Doruk aşağıdaki pizzadan yemişlerdir. Yedikleri parçaları kesir sayısı olarak gösteriniz.



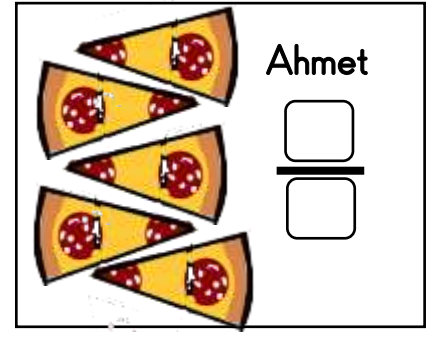
$$\frac{12}{12} \rightarrow 1 \text{ bütün}$$



Doruk, bütün pastanın parçasını yemiştir.



Arzu, bütün pastanın parçasını yemiştir.



Ahmet, bütün pastanın parçasını yemiştir.

Aşağıdaki şekillerin boyalı kısımlarının belirttiği kesir sayılarını yazınız.

