
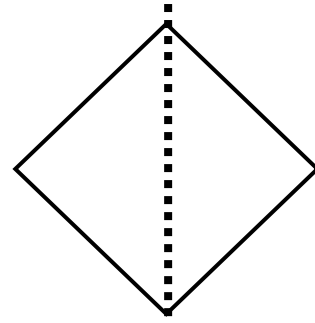


SİMETRİK ŞEKİLLER



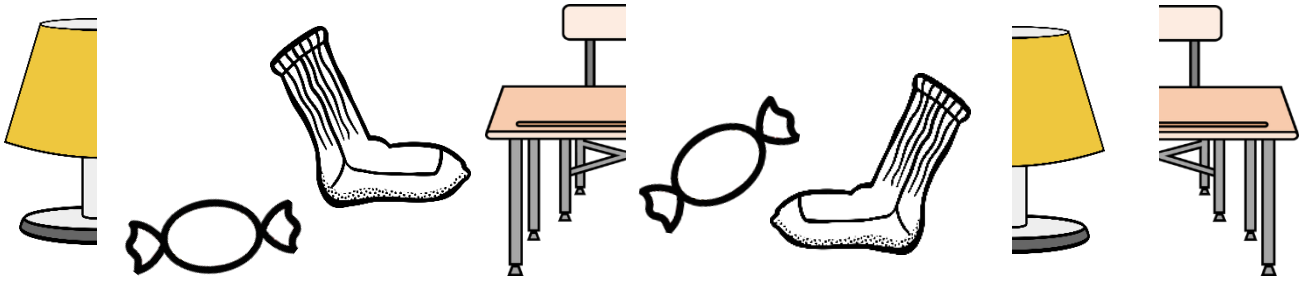
Yukarıdaki görseli inceleyelim. Çizginin her iki tarafındaki desenler aynı mı?



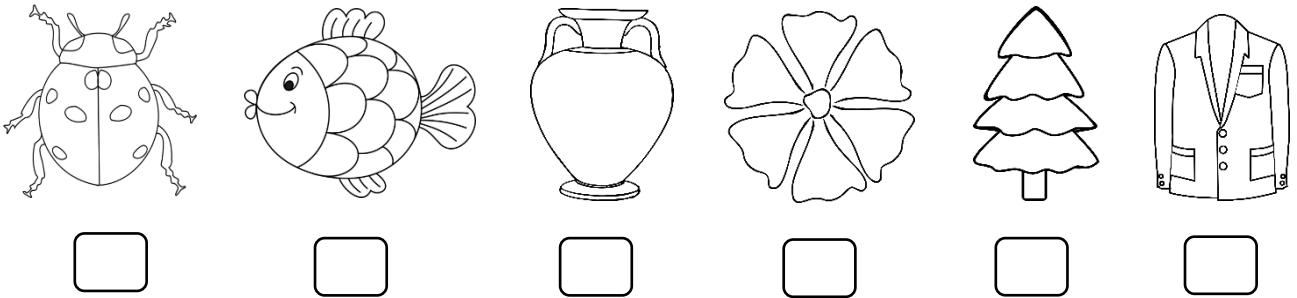
Yukarıdaki şekli noktalı çizgilerden katlayınca eş parçalar üst üste gelir mi?

Uygun şekilde katlandığında üst üste çakışan ve katlama çizgisinden iki eş parçaya bölünebilen her şekil **simetrik**dir.


Aşağıdaki nesnelere hangileri eşdir? Eş olan nesnelere çizgi ile birleştirerek gösteriniz.



Aşağıdaki görselleri inceleyelim. İki eş parçaya ayrılabilen görselleri işaretleyelim.

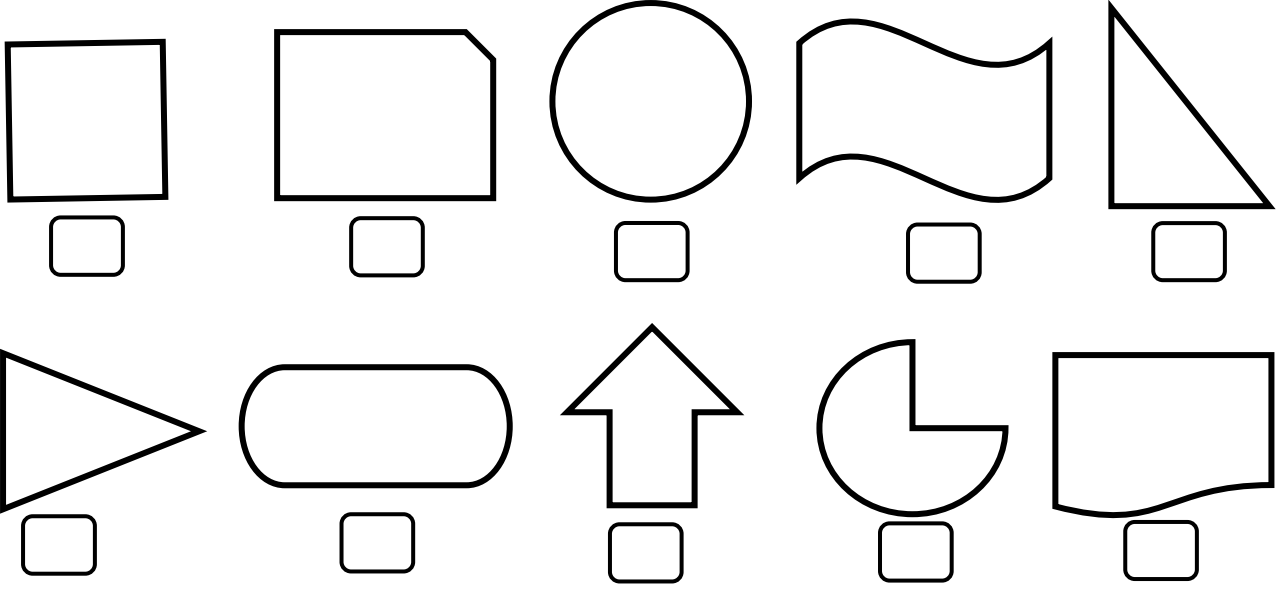


Aşağıdaki şekillerden hangileri iki eş parçaya ayrılabilir? Şekilleri iki eş parçaya ayıran çizgiyi çizerek gösteriniz.

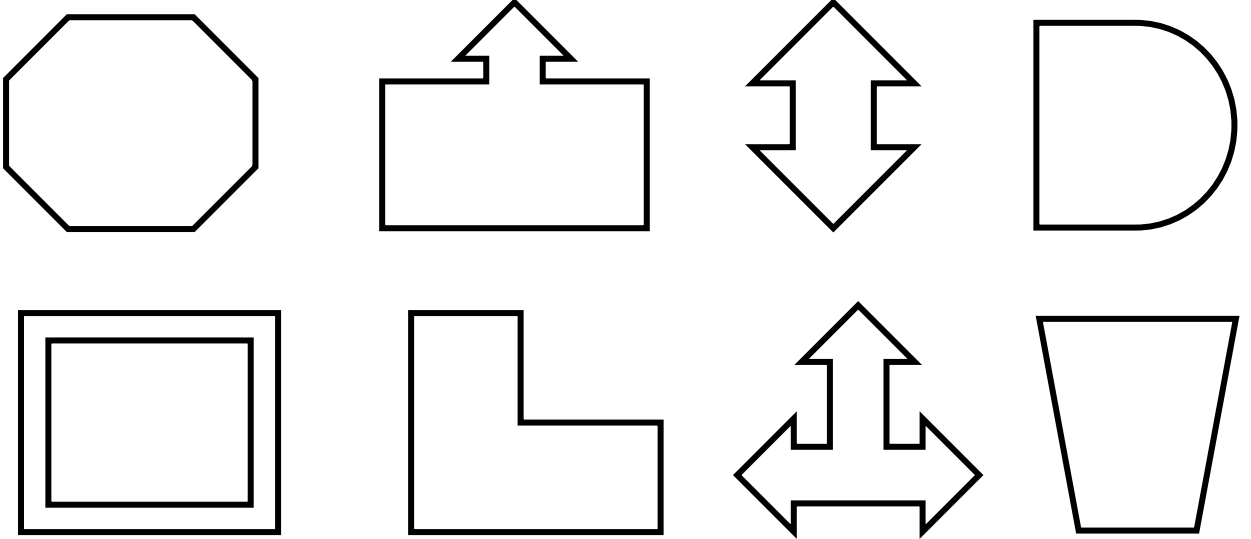


SİMETRİK ŞEKİLLER

Aşağıda verilen şekillerden iki eş parçaya ayrılabilenleri işaretleyiniz.?



Aşağıdaki şekilleri çizgi ile iki eşit parçaya ayırın. Parçaları iki farklı renkte boyayın.



Aşağıdaki şekillerden eş parçalarından bir tanesi boyalı olan şekilleri işaretleyiniz.

