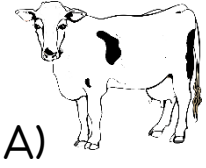


TÜRKÇE


1) Aşağıdaki hayvanlardan hangisinin ismi altı harflidir?



A)



B)



C)

Dün gece bize Alp geldi.

2) Yukarıdaki cümlede tek heceli kaç sözcük vardır?

A) 1

B) 2

C) 3

3) Aşağıdaki hangi sözcük grubu cümledir?

A) Okullar yarın

B) Çanta ve kalem

C) Okullar yarın açılıyor

Aysel, düğünde çok eğlendi.

4) Yukarıdaki cümle kaç kelimedenden oluşmaktadır?

A) 4

B) 9

C) 22

5) Aşağıda verilen sözcük hangisinde hecelerine doğru ayrılmıştır?

A) ten-çer-e

B) te-n-ce-re

C) ten-ce-re

6) Aşağıdaki noktalama işaretlerinden hangisi cümlenin sonuna **gelmez**?

A) Soru işareti (?)

B) Virgül (,)

C) Nokta (.)

Soğuk su içtiği için hasta oldu.

7) Yukarıdaki cümlede hangi sorunun yanıtı vardır?

A) Ne?

B) Neden?

C) Nasıl?

8) "Tok" kelimesinin zıt anlamlısı hangisidir?

A) aç

B) dolu

C) doymuş

9) Aşağıdaki sözcüklerden hangisi özel isimdir?

A) Kalem

B) Perde

C) Kemal

1 - Pirinç, tuz, sirke aldık.

2 - Alışveriş listesi yaptık.

3 - Markete gittik.

10) Yukarıdaki cümleleri olayların oluş sırasına göre sıraladığımızda hangisi en sonda yer alır?

A) 1

B) 2

C) 3

MATEMATİK

1) Aşağıdaki terimlerden hangisi toplama işlemine ait **değildir**?

- A) Toplam B) Toplanan C) Fark

2) 7 yıl önce 11 yaşında olan Uğur'un şimdiki yaşı kaçtır?

- A) 6 B) 5 C) 4

3) $14 + ? = 19$ işleminde "?" yerine yazılacak olan sayı kaçtır?

- A) 6 B) 5 C) 4

4) $14 - 8 = 6$ işleminde çıkan kaçtır?

- A) 8 B) 6 C) 14

5) Kantinde 18 tane simit var. Simitlerin 9 tanesi satıldı. Geriye kaç simit kaldı?

- A) 11 B) 10 C) 9







6) Görseldeki ekmeklerden kaç tane yarım ekmek elde edebiliriz?

- A) 3 B) 5 C) 6

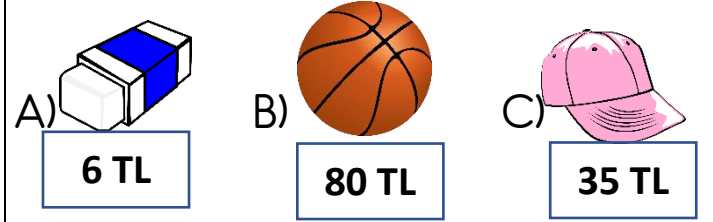


7) Yukarıdaki örüntüde ? olan yere hangi şekil gelmelidir?

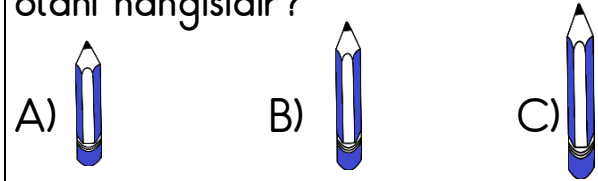
- A)  B)  C) 



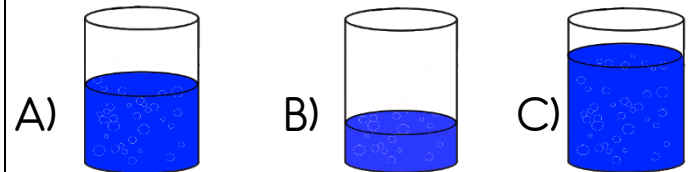
8) Yukarıdaki görselde Hakan'ın cebindeki paralar gösterilmiştir. Buna göre Hakan aşağıdakilerden hangisini **alamaz**?



9) Aşağıdaki kalemlerden boyu en uzun olanı hangisidir?

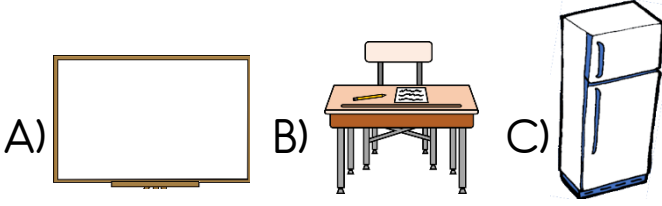


10) Aşağıdaki bardakların hangisinde sıvı miktarı daha azdır?




HAYAT BİLGİSİ

1) Aşağıdakilerden hangisi sınıfta bulunan eşyalardan değildir?



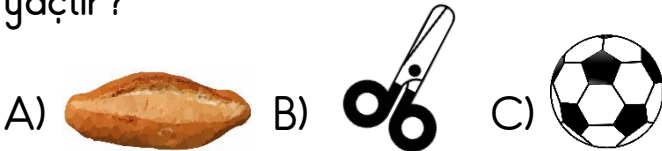
2) Aşağıdaki görsellerden hangisinde ders araç ve gereçlerinden biri verilmiştir?



3) Sınıftaki şeref köşesinde aşağıdakilerden hangisi bulunmaz?

- A) Türk Bayrağı
B) Atatürk resmi
C) Yazı tahtası


4) Aşağıdakilerden hangisi temel ihtiyaçtır?



5) Aşağıdakilerden hangi kişisel bakımımızı yaparken kullanılmaz?

- A) Tarak B) Diş fırçası C) Silgi

6) Aşağıdakilerden hangi besin hayvansal kaynaklıdır?



İlçe

İl

köy

7) Yukarıda verilen yerleşim yerlerinin büyükten küçüğe doğru sıralanışı aşağıdakilerden hangisidir?

- A) İlçe – Köy – İl
B) İl – İlçe – Köy
C) Köy – İl – İlçe

8) Gündüzlerin uzun, gecelerin kısa, havanın oldukça sıcak olduğu mevsim aşağıdakilerden hangisidir?

- A) Sonbahar B) İlkbahar C) Yaz

9) Ülkemizin başkenti hangisidir?

- A) İzmir B) Ankara C) İstanbul

10) Hangisi dinî bayramlarımızdandır?

- A) Cumhuriyet Bayramı
B) 30 Ağustos Zafer Bayramı
C) Kurban Bayramı