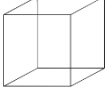
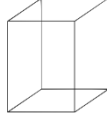

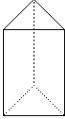


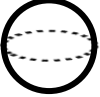
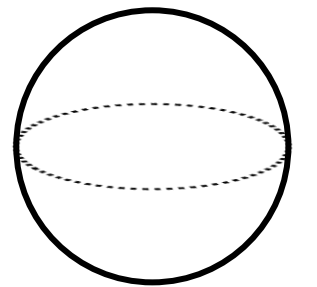
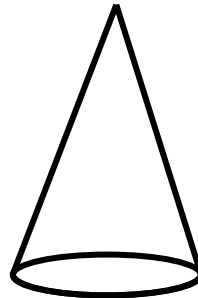

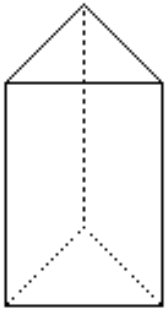

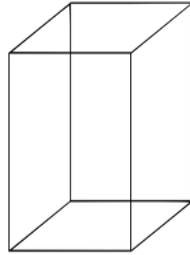
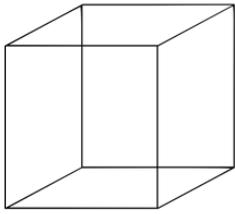


Tabloda bazı geometrik cisimlerin köşe, yüz ve ayrit sayıları verilmiştir. Buna göre tablodaki boşlukları doldurunuz.

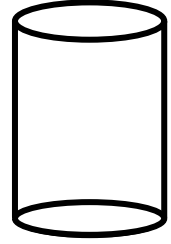
| GEOMETRİK CİSİM   |                        | YÜZ SAYISI | KÖŞE SAYISI | AYRIT SAYISI |
|---|------------------------|------------|-------------|--------------|
|    | Küp                    |            | 8           |              |
|    | Kare prizma            | 6          |             |              |
|    | Dikdörtgenler Prizması |            |             | 12           |
|    | Üçgen Prizma           | 5          |             |              |
|    | Silindir               |            |             | X            |
|   | Koni                   | 2          |             |              |
|  | Küre                   |            | X           |              |

Aşağıdaki geometrik cisimlerin önce isimlerini altlarına yazınız. Sonra da geometrik cisimlerin köşelerini maviye, ayritlarını maviye, yüzlerini sarıya boyayınız.

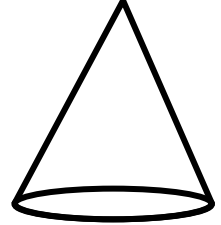


Aşağıda geometrik cisimler ile ilgili bilgileri okuyunuz. Bilgilere göre geometrik cisimlerin adlarını yanlarındaki boşluklara yazınız. Uygun görsellerle eşleştiriniz.

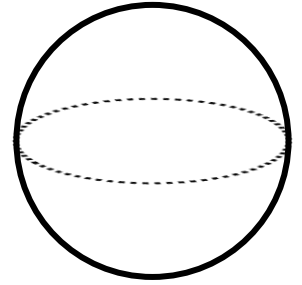
- 2 tane yüzü vardır.
- 1 yüzü daire şeklindedir.
- Köşesi yoktur.
- Ayrıtı yoktur.



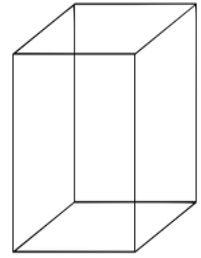
- 1 tane yüzü vardır.
- Köşesi yoktur.
- Ayrıtı yoktur.



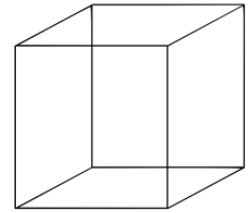
- 3 tane yüzü vardır.
- 2 yüzü daire şeklindedir.
- 1 yüzü dikdörtgen şeklindedir.
- Köşesi yoktur.
- Ayrıtı yoktur.




- 12 ayrıtı,
- 8 köşesi,
- 6 yüzü vardır.
- Karşılıklı yüzleri eşittir.
- Karşılıklı ayrıtları eşit uzunluktadır.
- Tüm yüzleri dikdörtgen şeklindedir.



- 9 ayrıtı,
- 6 köşesi,
- 5 yüzü vardır.
- Yüzlerinden 2'si üçgen, 3'ü dikdörtgendir.



- 12 ayrıtı,
- 8 köşesi,
- 6 yüzü vardır.
- Karşılıklı yüzleri eşittir.
- 2 yüzü kare şeklindedir.



- 12 ayrıtı,
- 8 köşesi,
- 6 yüzü vardır.
- Tüm ayrıtları eşit uzunluktadır.
- Tüm yüzleri eşittir.

