

## Problemler


1) Bahçe çitlerine konan 10 kuşun 4'ü uçtu. Geriye kaç kuş kaldı?

Çözüm



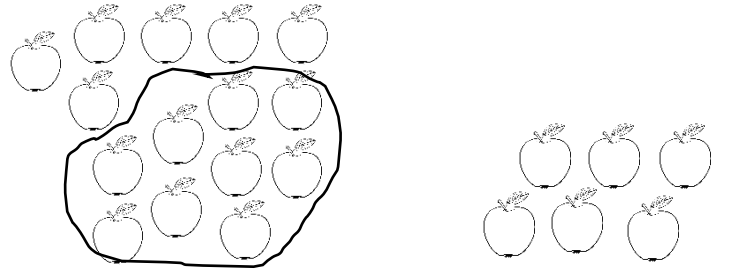
2) 12 tane balonun 5 tanesi patladı. Geriye kaç balon kaldı?

Çözüm




3) Ayşe manavdan 15 elma aldı. Elmaların 9 tanesini yediler. Geriye kaç elma kaldı?

Çözüm



4) Nil 11 papatya, Eda 7 papatya topladı. Nil'in papatyaları Eda'nın papatyelerından kaç fazladır?

Çözüm




5) Annem 16 tane kurabiye yaptı. Kardeşim ve ben annemin yaptığı kurabiyelerin 5 tanesini yedik. Geriye kaç kurabiye kaldı?

Çözüm



6) Bakkaldan 20 yumurta aldım. Yumurtaların 8 tanesini yedik. Geriye kaç yumurta kaldı?

Çözüm



7) Şekerlikte 14 tane şeker var. Kardeşim 6 tanesini yedi. Geriye kaç şeker kaldı?

Çözüm



8) Kantinde 19 tane simit var. Simitlerin 11 tanesi satıldı. Geriye kaç simit kaldı?

Çözüm

