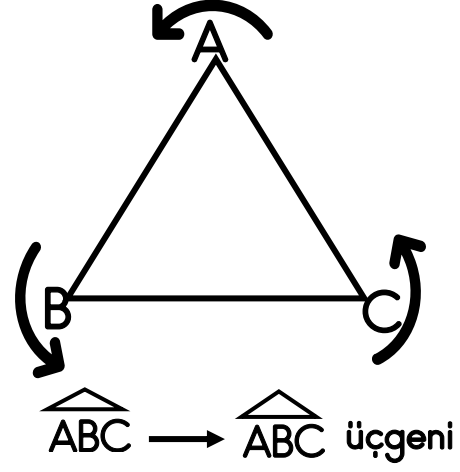
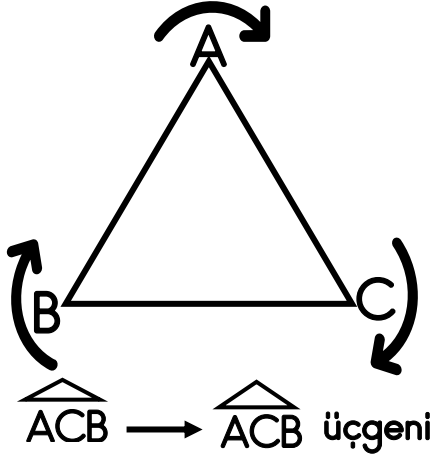
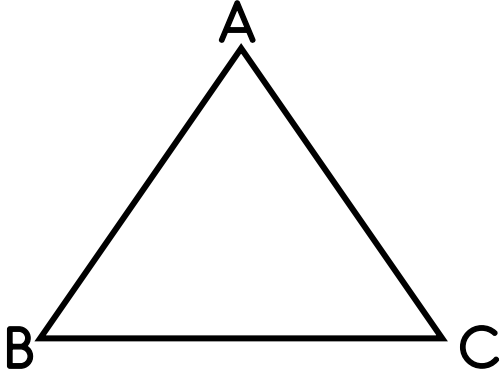


# Üçgeni İsimlendirme



Üçgen, komşu köşeler sırasıyla takip edilerek yazılan büyük harflerle adlandırılır. Bir köşeden başlayarak saat yönüne doğru veya saat yönünün tersine doğru yazılır ve okunur.

Aşağıdaki üçgeni örnekteki gibi isimlendirelim, okunuşlarını yazalım.



$\widehat{ABC} \rightarrow \widehat{ABC}$  üçgeni

$\widehat{BCA} \rightarrow \widehat{BCA}$  üçgeni

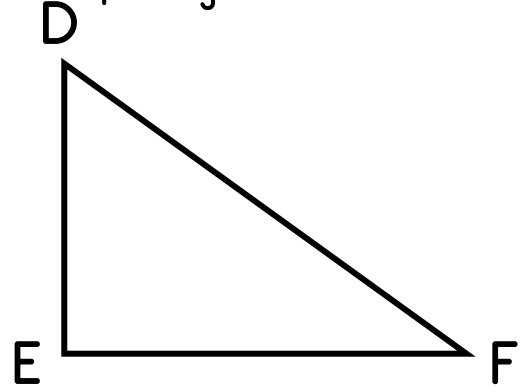
$\widehat{CAB} \rightarrow \widehat{CAB}$  üçgeni

..... veya .....

$\widehat{ACB} \rightarrow \widehat{ACB}$  üçgeni

$\widehat{CBA} \rightarrow \widehat{CBA}$  üçgeni

$\widehat{BAC} \rightarrow \widehat{BAC}$  üçgeni



.....

.....

.....

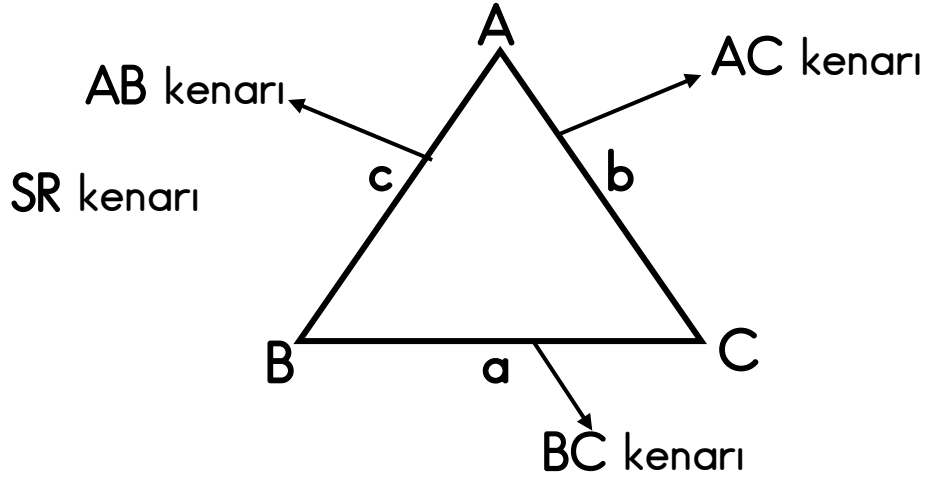
..... veya .....

.....

.....

.....

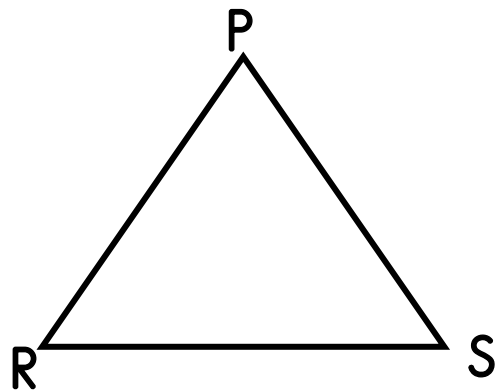
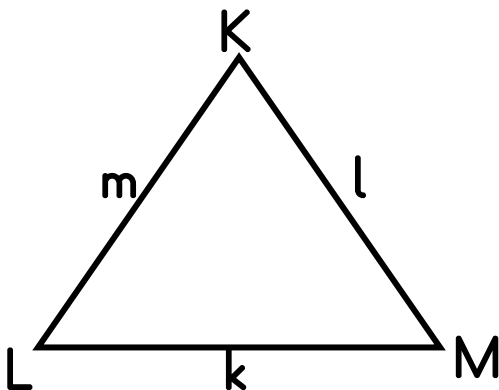
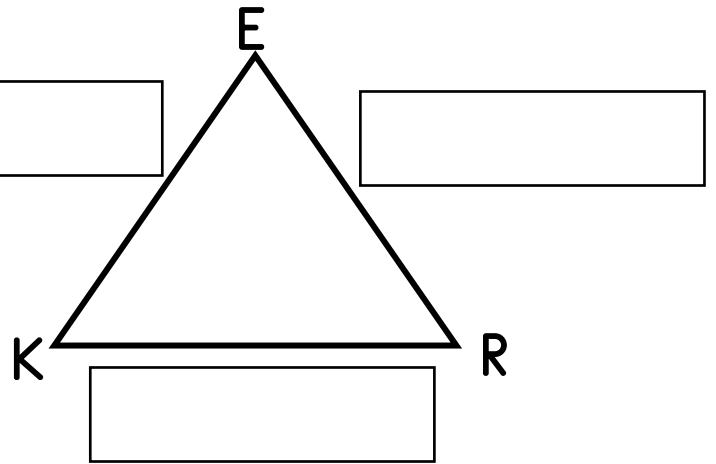

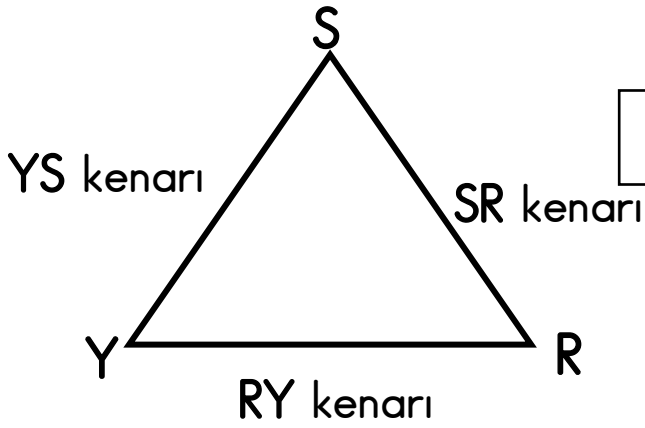
# Üçgeni İsimlendirme



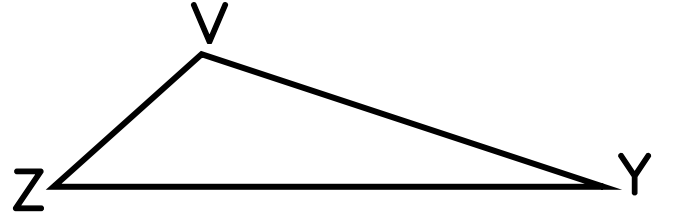
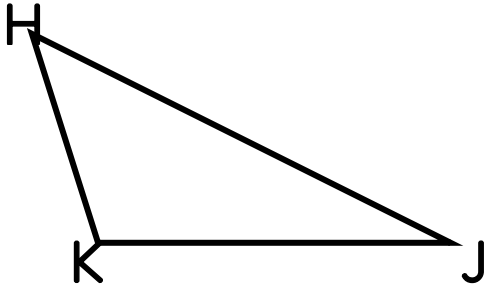
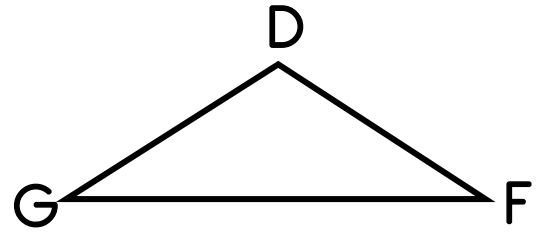
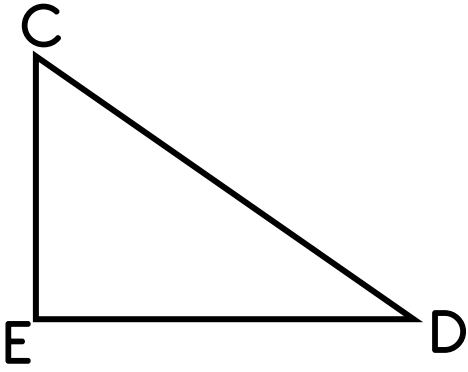
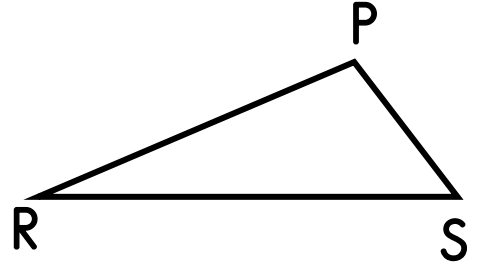
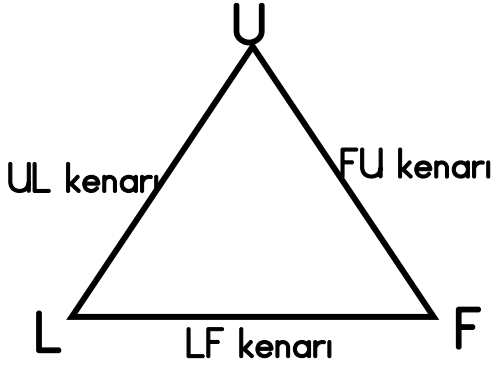
Üçgenin kenarları bir doğru parçasıdır. Üçgenin kenarları “—” veya “[ ]” sembolleri kullanılarak gösterilir. Üçgenin kenarları, bulunduğu doğru parçasının üzerindeki köşelerin harfleri ile ifade edilir.

Bir üçgenin kenarını, karşısında bulunan köşedeki harfin küçüğü ile de gösterebiliriz.

Aşağıdaki üçgenlerin kenarlarını örneklerdeki gibi isimlendirelim.



Aşağıdaki üçgenlerin kenarlarını örnekteki gibi isimlendirelim.



Aşağıdaki üçgenlerin kenarlarını örnekteki gibi isimlendirelim.

