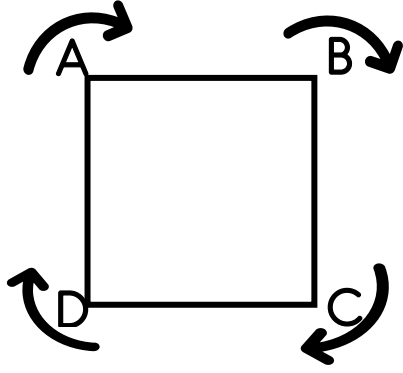
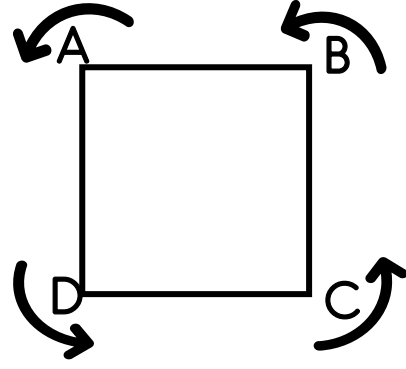


# Kareyi İsimlendirme



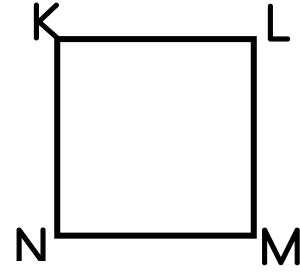
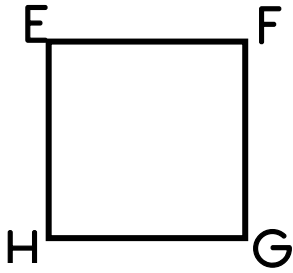
ABCD → ABCD karesi



ADCB → ADCB karesi

Kare, komşu köşeler sırasıyla takip edilerek yazılan büyük harflerle adlandırılır. Bir köşeden başlayarak saat yönüne doğru veya saat yönünün tersine doğru yazılır ve okunur.

Aşağıdaki kareyi örnekteki gibi isimlendirelim, okunuşlarını yazalım.



..EFGH → EFGH karesi..

..FGHE → FGHE karesi..

..GHEF → GHEF karesi..

..HEFG → HEFG karesi..

.....veya.....

..EHGF → EHGF karesi..

..HGFE → HGFE karesi..

..GFEH → GFEH karesi..

..FEHG → FEHG karesi....

.....

.....

.....

.....

.....veya.....

.....

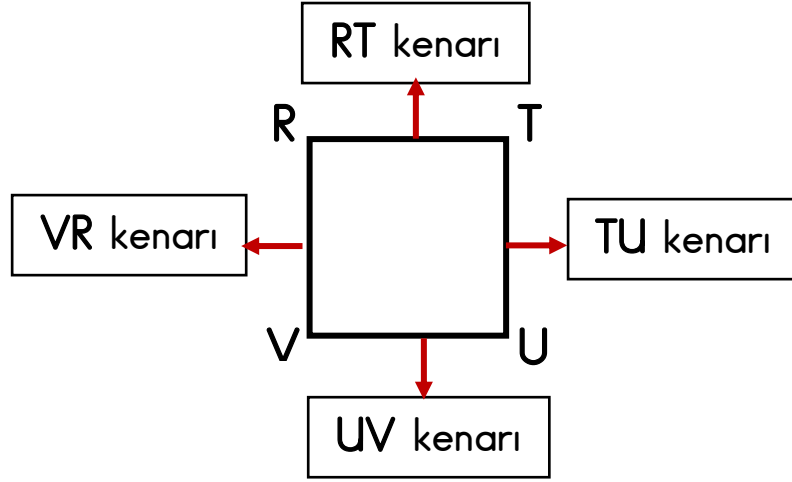
.....

.....

.....

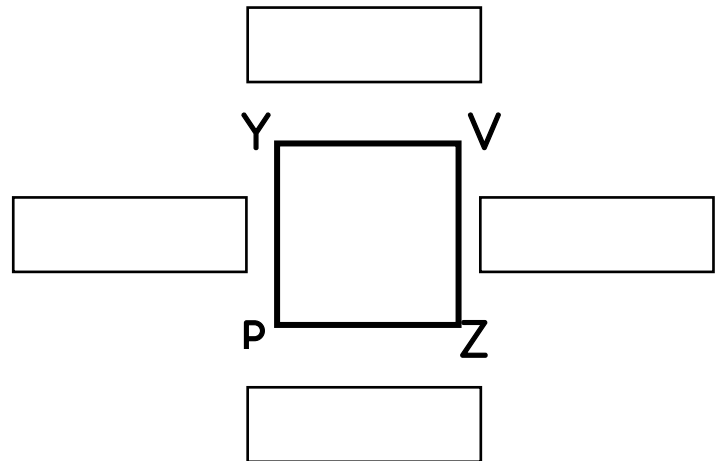
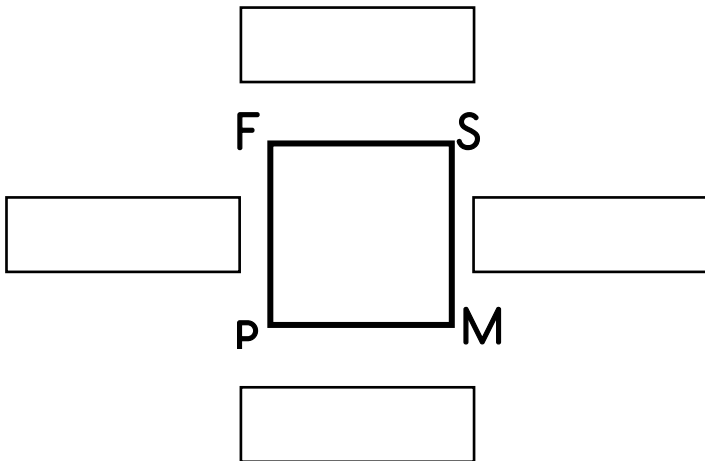
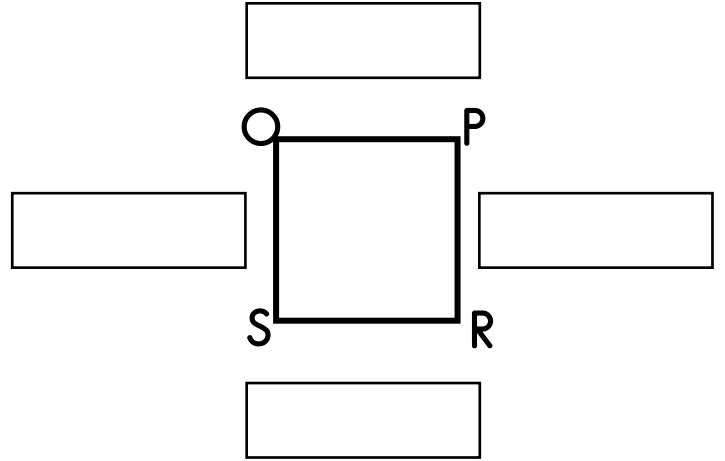
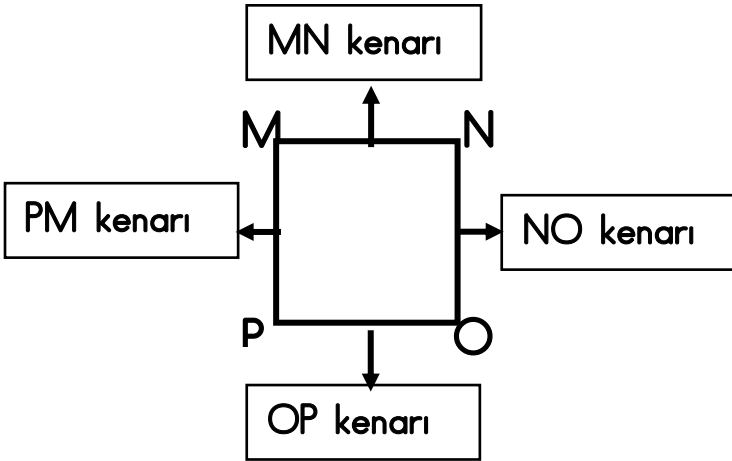
# Kareyi İsimlendirme

Karenin 4 kenarı ve 4 köşesi vardır. Kenar uzunlukları birbirine eşittir

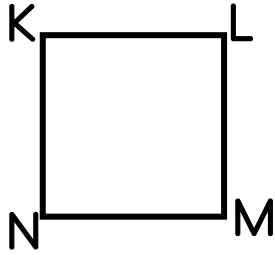


Karenin kenarları bir doğru parçasıdır. Karenin kenarları “—” veya “[ ]” sembolleri kullanılarak gösterilir. Karenin kenarları, bulunduğu doğru parçasının üzerindeki köşelerin harfleri ile ifade edilir.

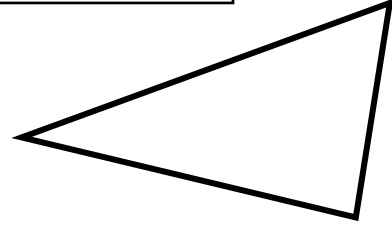
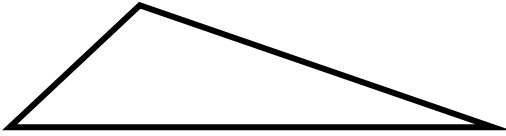
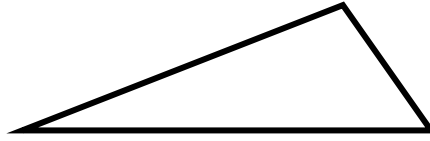
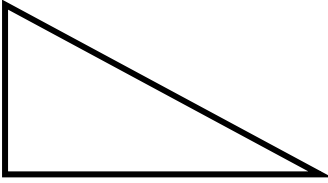


Aşağıdaki karelerin kenarlarını örnekteki gibi isimlendirelim.



Aşağıdaki geometrik şekilleri isimlendiriniz. Şekillerin isimlerini örnekteki gibi yazınız.



KLMN karesi



Aşağıdaki geometrik şekillerin kenarlarını örnekteki gibi isimlendirelim.

