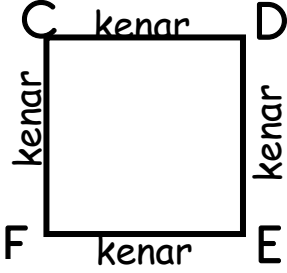


Kare ve Dikdörtgenin Kenar Özellikleri

Kare

- ✓ Karenin 4 kenarı vardır.
- ✓ Karenin tüm kenar uzunlukları birbirine eşittir.



Yandaki **CDEF** karesinin kenarları CD kenarı, DE kenarı, EF kenarı, FC kenarı diye ifade edilir.

Sembolle gösterelim.

[CD], [DE], [EF], [FC]

Dikdörtgen

- ✓ Dikdörtgenin iki uzun, iki kısa kenarı olmak üzere 4 kenarı vardır.
- ✓ Dikdörtgenin karşılıklı kenar uzunlukları birbirine eşittir.

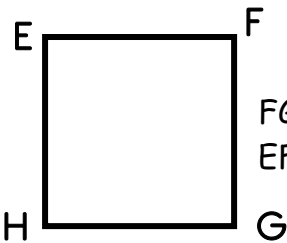


Yandaki **OPRS** dikdörtgeninin kenarları OP kenarı, PR kenarı, RS kenarı, SO kenarı diye ifade edilir.

Sembolle gösterelim.

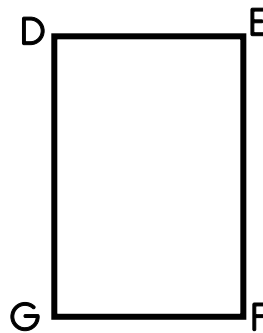
[OP], [PR], [RS], [SO]

Aşağıda verilen geometrik şekillerin istenen kenar uzunluklarını noktalı yerlere yazınız.



FG kenarı = 5cm

EF kenarı =



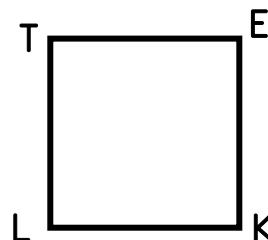
EF kenarı = 8cm

GD kenarı =



HK kenarı = 4cm

RE kenarı =



TE kenarı = 6cm

KL kenarı =