


ÇIKARMA İŞLEMİ

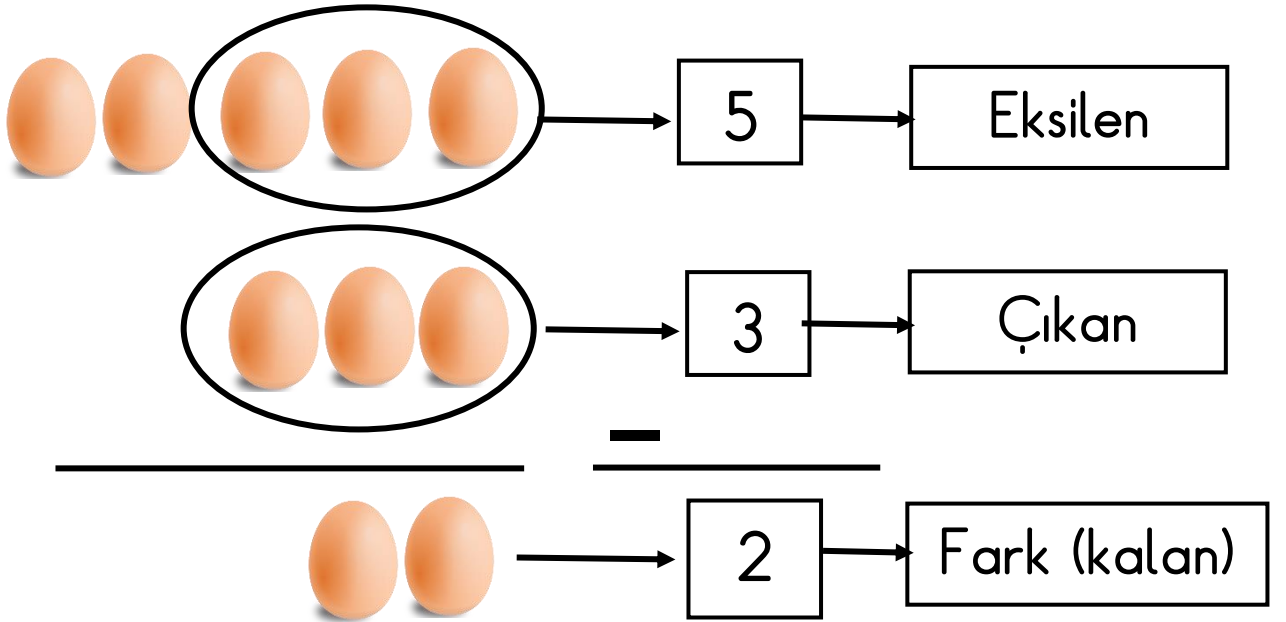
Arzu, omlet yapmak istiyor. Buzdolabında 5 yumurta var. Yumurtaların 3 tanesi ile omlet yaptı. Geriye kaç yumurta kaldı?



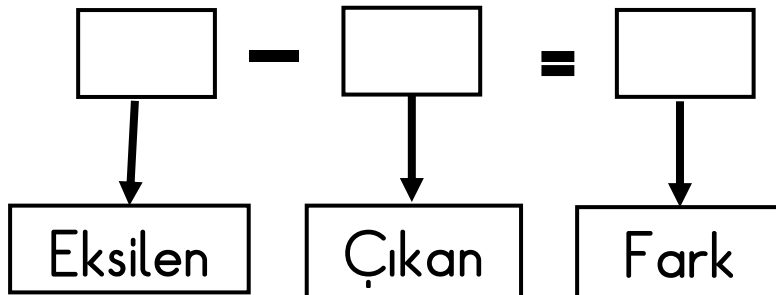
Omlet yapmadan önce kaç yumurtamız var.

Omlet için kaç yumurta kullandık?.

Geriye kaç yumurta kaldı?.



1. Annem 8 tane tabak aldı. Tabakların 3 tanesi kırıldı. Geriye kaç tabak kaldı?



2. Simitçiden 9 tane simit aldık. Simitlerin 5 tanesini yedik.
Geriye kaç simit kaldı?

$$\begin{array}{ccc} \square & - & \square = \square \\ \downarrow & & \downarrow \\ \text{Eksilen} & & \text{Çıkan} \end{array} \quad \text{Fark}$$

3. Gamze dedesine 7 tane gazete aldı. Dedesi gazetelerin 4 tanesini okudu. Geriye okunmamış kaç gazete kaldı?

$$\begin{array}{ccc} \square & - & \square = \square \\ \downarrow & & \downarrow \\ \text{Eksilen} & & \text{Çıkan} \end{array} \quad \text{Fark}$$

4. Annem pazardan 6 tane çiçek saksısı aldı. Saksıların 2 tanesine çiçek ekti. Geriye çiçek ekilmemiş kaç saksı kaldı?

$$\begin{array}{ccc} \square & - & \square = \square \\ \downarrow & & \downarrow \\ \text{Eksilen} & & \text{Çıkan} \end{array} \quad \text{Fark}$$

5. Ege 10 tane balon almış. Balonların 6 tanesi patlamış.
Geriye kaç balon kalmış?

$$\begin{array}{ccc} \square & - & \square = \square \\ \downarrow & & \downarrow \\ \text{Eksilen} & & \text{Çıkan} \end{array} \quad \text{Fark}$$