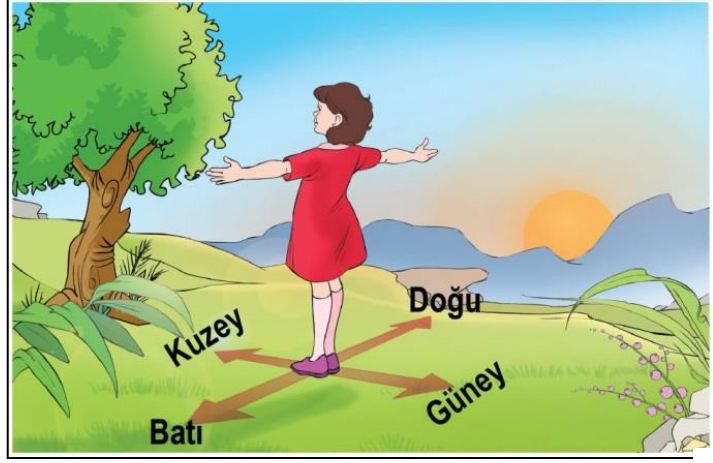


Yönümüzü Bulalım

Yön: Bilinen bir yerin herhangi bir yere göre konumunu belirtmeye denir. Yönlerin belirlenmesinde güneşin doğuşu ve batışını dikkate alırız.

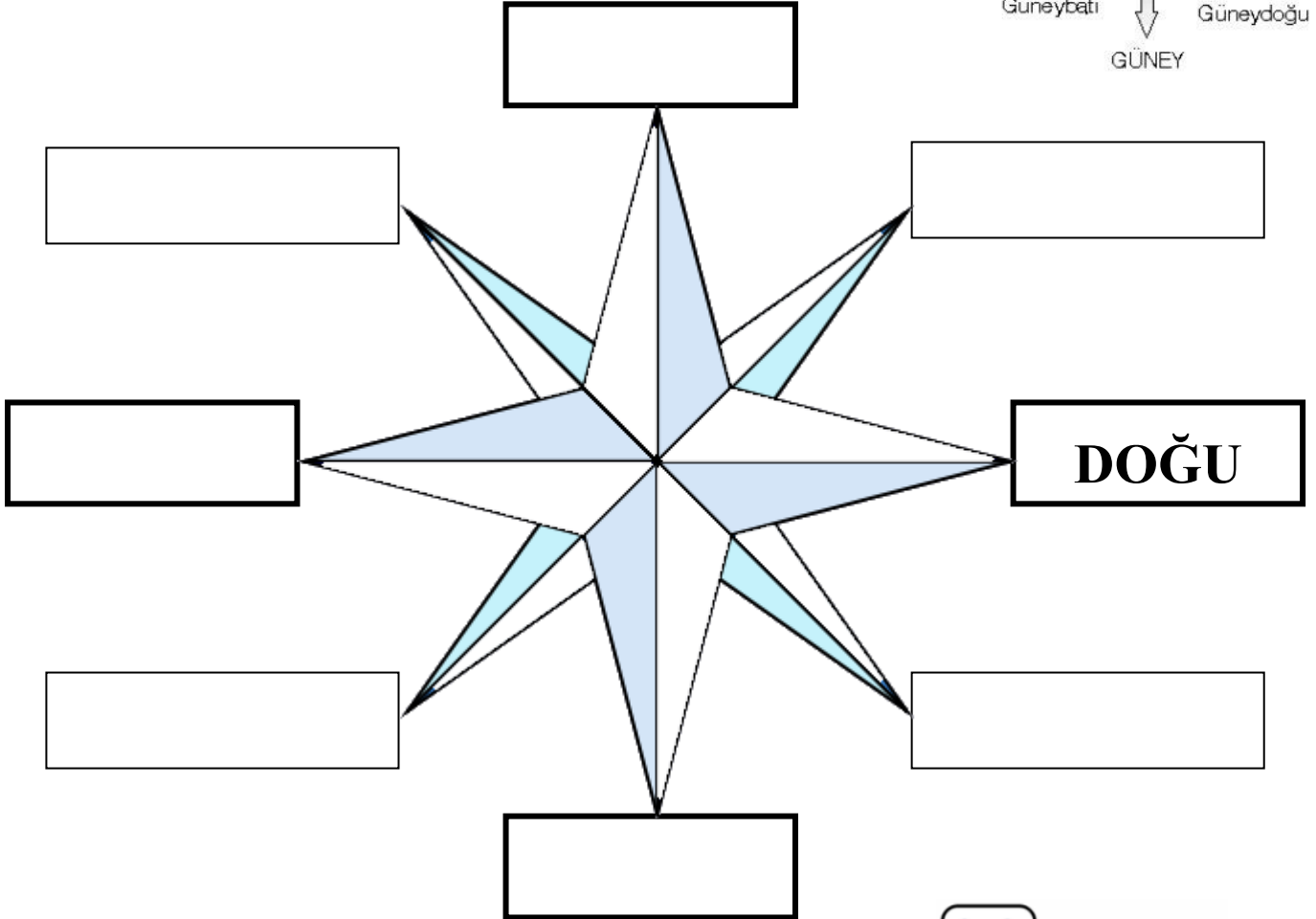
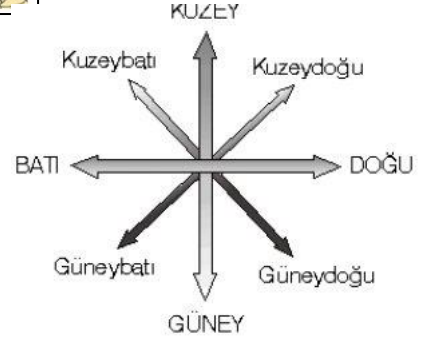
Güneş'in doğduğu taraf **Doğu**'yu, battığı taraf **Batı**'yı gösterir.

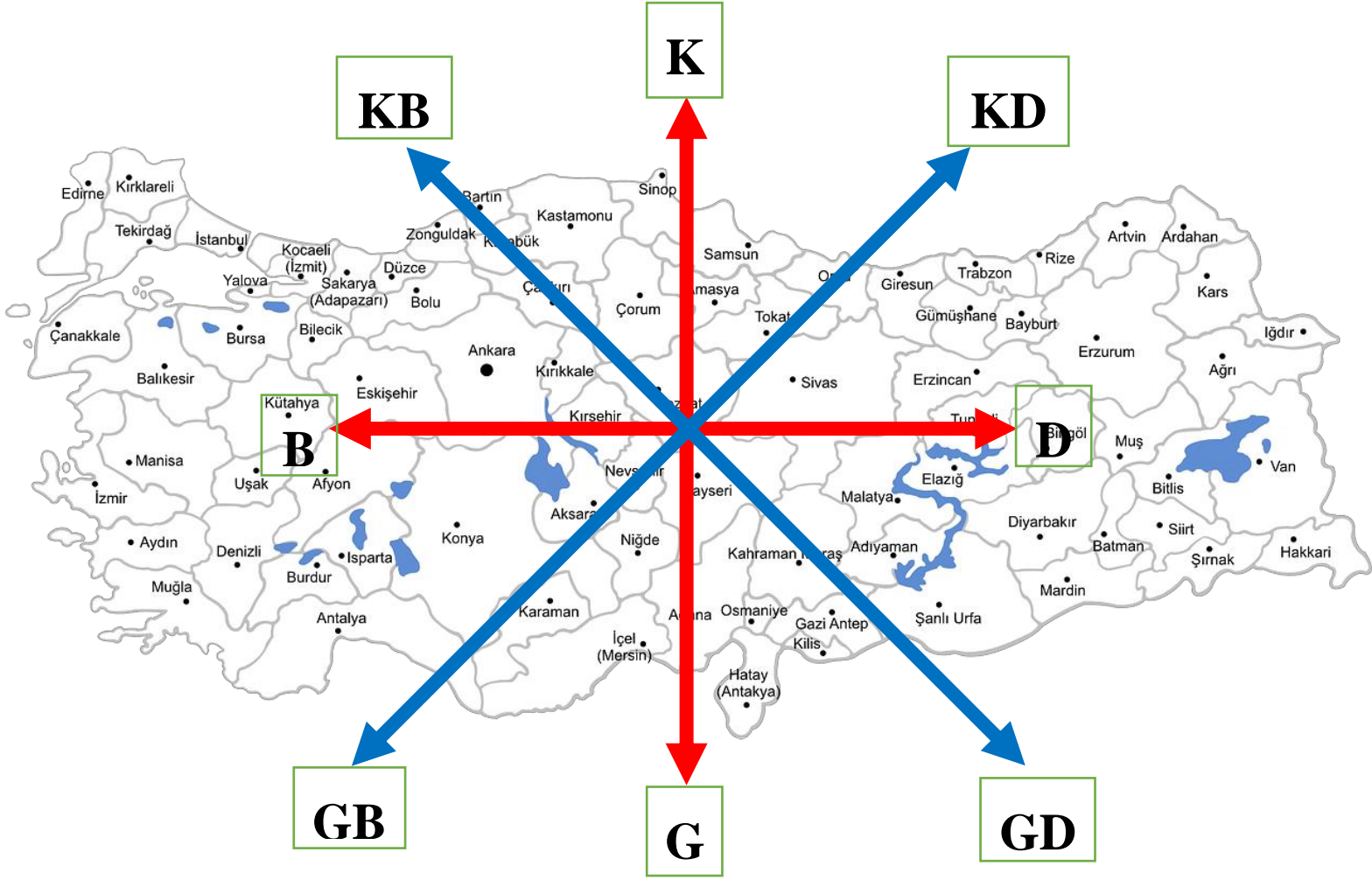
Güneşin doğduğu yöne sağ kolunuzu, battığı yöne sol kolunuzu uzatırsanız, sağ kolunuz **doğuyu**, sol kolunuz da **batıyı**, önünüz **kuzeyi**, arkanız **güneyi** gösterir.



Yönler ana yönler ve ara yönler olarak ikiye ayrılır.

Boşluklara ana ve ara yönleri yazınız.





Aşağıdaki soruları yukarıdaki haritaya göre cevaplandırınız.

- ❖ Ankara'nın doğusunda hangi il vardır?
.....
- ❖ Ankara'nın batısında hangi il vardır?
.....
- ❖ Ankara'nın güneyinde hangi il vardır?
.....
- ❖ Ankara'nın kuzeybatısında hangi il vardır?
.....
- Türkiye'nin güneyinde bulunan illerden 3 tanesinin adını yazınız.
.....
- Türkiye'nin kuzeyinde bulunan illerden 3 tanesinin adını yazınız.
.....
- Türkiye'nin batısında bulunan illerden 3 tanesinin adını yazınız.
.....
- Türkiye'nin doğusunda bulunan illerden 3 tanesinin adını yazınız.
.....