

MIKNATIS

Aşağıdaki ifadelerde boş bırakılan yerleri uygun kelimelerle tamamlayınız.

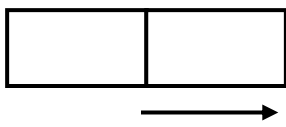
çeker "N," mıknatıs elektronik güneyi kutupları kuzeyi iter "S,"

- Demir, nikel, kobalt gibi maddeleri çekme özelliği gösteren cisimleredenir.
- Mıknatısların aynı kutupları birbirini.....
- Mıknatısların farklı kutupları ise birbirini
- Pusulanın "N" yazılı kırmızı ucu daima..... gösterir.
- Mıknatısın çekme özelliğinin fazla olduğu uç kısımlarına mıknatısındenir.
- Mıknatısların kuzey "....." ve güney "....." olmak üzere iki kutbu bulunmaktadır.
- Mıknatıs birçok eşya yapımında kullanılmaktadır.

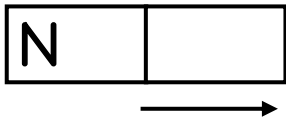
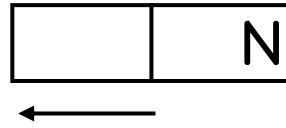
Aşağıdaki cümleleri okuyunuz. Doğru olanların başına "D," yanlış olanların başına "Y," yazınız.

- (.....) Mıknatısların asla tek bir kutbu olmaz.
(.....) Mıknatıslar büyüdükçe çekim gücü artar.
(.....) Mıknatıslar, günlük yaşamımızda pek kullanılmaz.
(.....) Mıknatıslar, bütün maddeleri çekebilirler.

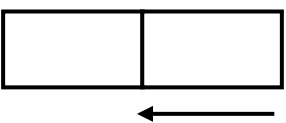
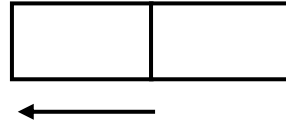
Aşağıda verilen bilgilerden yararlanarak mıknatısların kutuplarını yazalım. Daha sonra mıknatısları kutuplarına göre boyayalım.



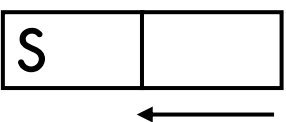
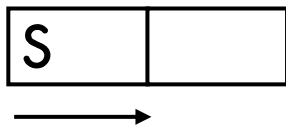
çeker



çeker



iter



iter

