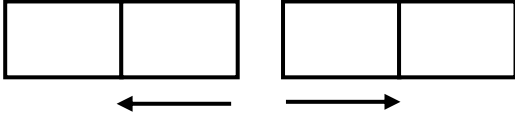
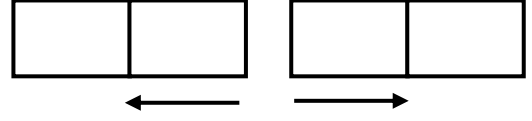


MIKNATIS

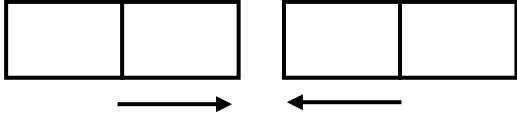
Aşağıda verilen mıknatısların birbirine uyguladığı kuvvetlere göre kutuplarını yazınız. Cümleleri tamamlayınız.



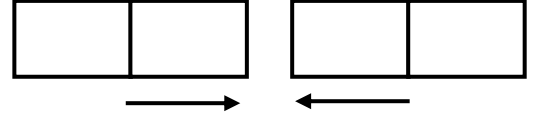
İki mıknatıs birbirini




İki mıknatıs birbirini




İki mıknatıs birbirini



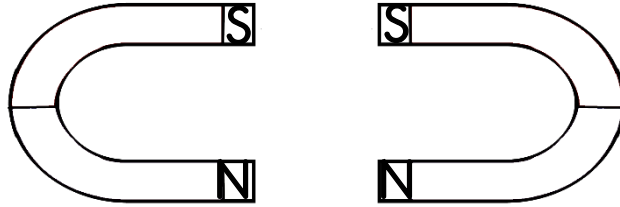
İki mıknatıs birbirini



İki mıknatıs birbirini



İki mıknatıs birbirini



İki mıknatıs birbirini

Aşağıda verilen mıknatısların birbirine uyguladığı kuvvet **çekme** kuvveti olduğuna göre kutuplarını yazınız.

