

Aşağıda verilen doğal sayıların basamak adlarını ve basamak değerlerini yazınız.

346 597

Basamak Adları	Basamak Değeri
Birler basamağı	$7 \times 1 = 7$
Onlar basamağı	$9 \times 10 = 90$
Yüzler basamağı	$5 \times 100 = 500$
Binler basamağı	$6 \times 1000 = 6000$
On binler basamağı	$4 \times 10\ 000 = 40\ 000$
Yüz binler basamağı	$3 \times 100\ 000 = 300\ 000$

534 619

Basamak Adları	Basamak Değeri
..... basamağı	.....
..... basamağı	.....
..... basamağı	.....
..... basamağı	.....
..... basamağı	.....
..... basamağı	.....

621 413

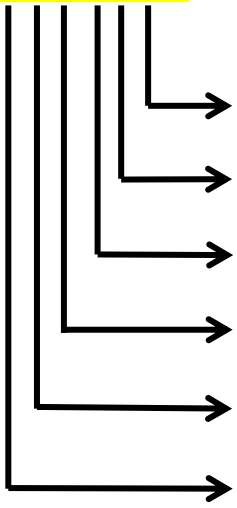
Basamak Adları	Basamak Değeri
..... basamağı	.....
..... basamağı	.....
..... basamağı	.....
..... basamağı	.....
..... basamağı	.....
..... basamağı	.....

824 012

Basamak Adları	Basamak Değeri
..... basamağı	.....
..... basamağı	.....
..... basamağı	.....
..... basamağı	.....
..... basamağı	.....
..... basamağı	.....

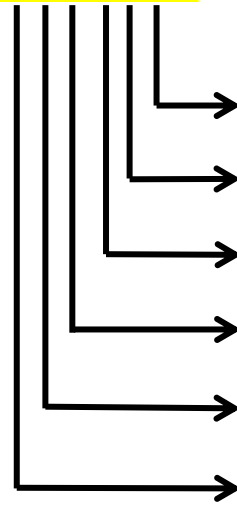
Aşağıda verilen doğal sayıların basamak adlarını ve basamak değerlerini yazınız.

346 597



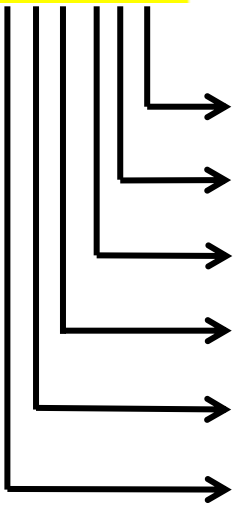
Basamak Adları	Basamak Değeri
..... basamağı	.....
..... basamağı	.....
..... basamağı	.....
..... basamağı	.....
..... basamağı	.....
..... basamağı	.....

534 619



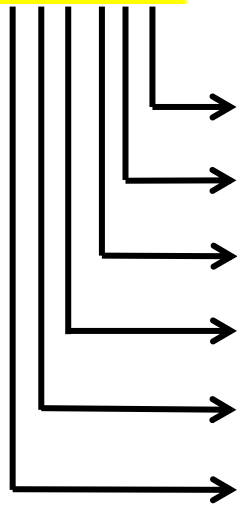
Basamak Adları	Basamak Değeri
..... basamağı	.....
..... basamağı	.....
..... basamağı	.....
..... basamağı	.....
..... basamağı	.....
..... basamağı	.....

621 413



Basamak Adları	Basamak Değeri
..... basamağı	.....
..... basamağı	.....
..... basamağı	.....
..... basamağı	.....
..... basamağı	.....
..... basamağı	.....

824 012



Basamak Adları	Basamak Değeri
..... basamağı	.....
..... basamağı	.....
..... basamağı	.....
..... basamağı	.....
..... basamağı	.....
..... basamağı	.....