





















Ritmik Saymalar

Bahçedeki civcivlerin sayısını ikişer ritmik sayarak bulalım.




2



İkişer ritmik sayarak yüzlük tablodaki uygun kutuları boyayınız. Boyadığınız sayıları balonların üzerine yazınız.

1	2	3	4	5	6	7	8	9	10
11	12	13	14	15	16	17	18	19	20
21	22	23	24	25	26	27	28	29	30
31	32	33	34	35	36	37	38	39	40
41	42	43	44	45	46	47	48	49	50
51	52	53	54	55	56	57	58	59	60
61	62	63	64	65	66	67	68	69	70
71	72	73	74	75	76	77	78	79	80
81	82	83	84	85	86	87	88	89	90
91	92	93	94	95	96	97	98	99	100



İleriye doğru ikişer ritmik sayınız ve boşlukları uygun sayılarla doldurunuz.

2

8

16

20


28

32

38

42

Köpeği kulübesine ulaştırmak için 38'den geriye doğru ikişer sayalım. Boşlukları dolduralım.



38

32

24

20

14

4



82'den başlayarak geriye doğru 44'e kadar ikişer ritmik sayınız.

82									

Aşağıda boş bırakılan yerlere uygun sayıları yazınız.

60			54				46		42
40		36			30				22
	18				10				2

Tablolarda verilen yönergeleri okuyarak uygun sayıyı bulunuz ve boyayınız.

10'dan başlayarak ileriye doğru ikişer ritmik sayarken 5. olarak söylenen sayı kaçtır? Boyayınız

10	14	18
16	12	20
26	22	24

22'den başlayarak ileriye doğru ikişer ritmik sayarken 3. olarak söylenen sayı kaçtır? Boyayınız.

20	36	28
30	34	32
26	22	24

26'dan başlayarak geriye doğru ikişer ritmik sayarken 4. olarak söylenen sayı kaçtır? Boyayınız.

10	14	18
16	12	20
26	22	24

56'dan başlayarak geriye doğru ikişer ritmik sayarken 4. olarak söylenen sayı kaçtır? Boyayınız.

46	44	54
50	52	48
58	60	56

68'den başlayarak ileriye doğru ikişer ritmik sayarken 5. olarak söylenen sayı kaçtır? Boyayınız.

64	68	66
70	74	72
76	78	80