











Ritmik Saymalar

Aşağıdaki saksılardaki çiçekleri dörtten başlayarak dörder ritmik sayalım.
Saydığımız sayıları saksıların üzerine yazalım.



4'ten başlayarak ileriye doğru dörder ritmik sayıp boşlukları doldurunuz.

4			16		24				
---	--	--	----	--	----	--	--	--	--

40'tan başlayarak geriye doğru dörder ritmik sayıp boşlukları doldurunuz.

40									
----	--	--	--	--	--	--	--	--	--

32'den başlayarak geriye doğru dörder ritmik sayınız. Sayma yaparken söylediğiniz sayıları toplardaki kutucuklara yazınız.

32							
----	--	--	--	--	--	--	--