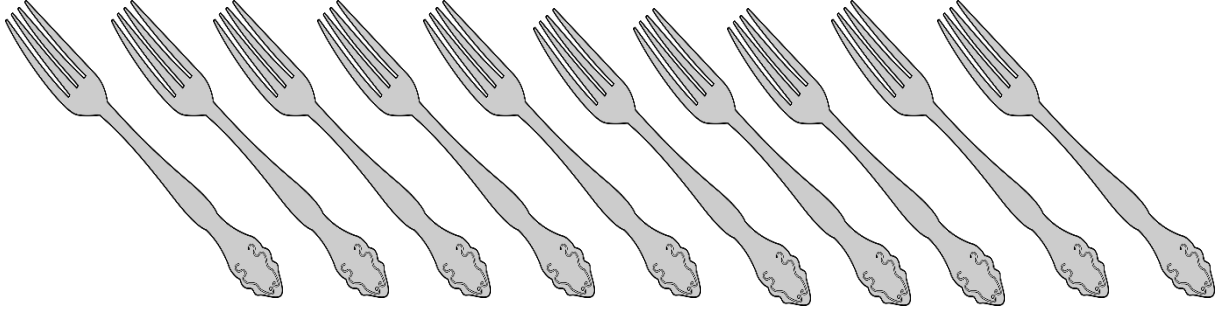
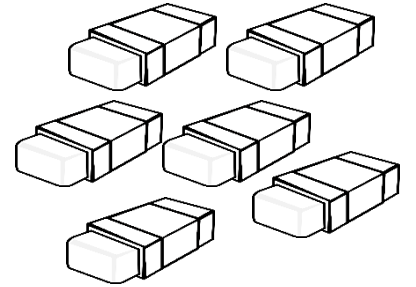
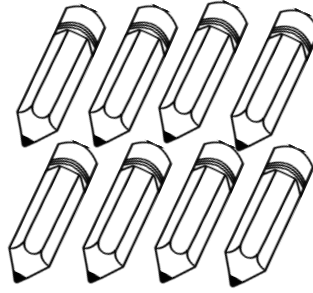



DESTE


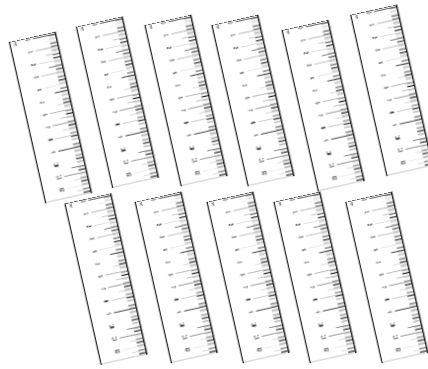

Deste: Aynı türden 10 varlığın oluşturduğu gruba deste denir.



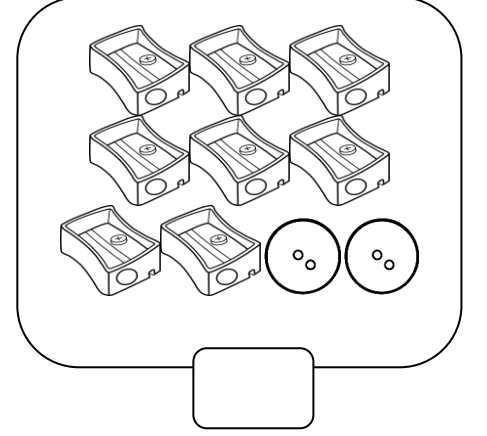
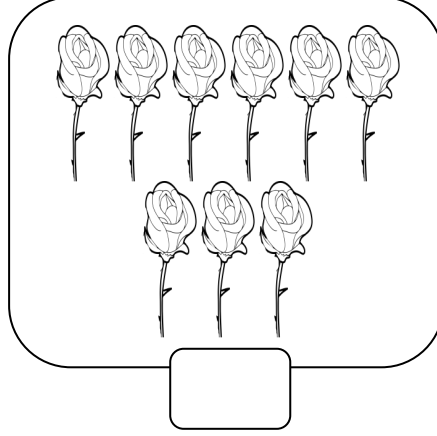
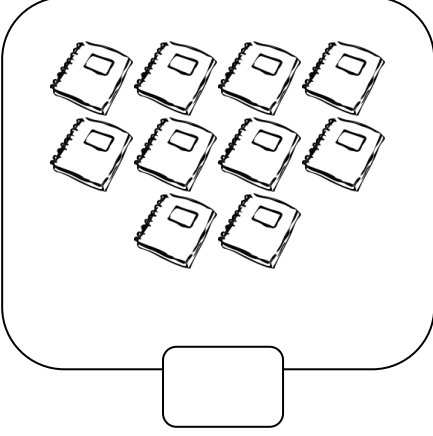
Aşağıdaki varlıkların 1 desteden kaç tane az olduğunu kutucuklara yazınız.



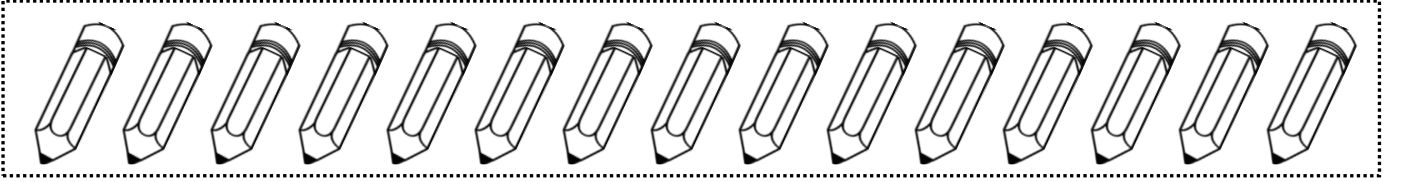
Aşağıdaki varlıkların 1 desteden kaç tane fazla olduğunu kutucuklara yazınız.



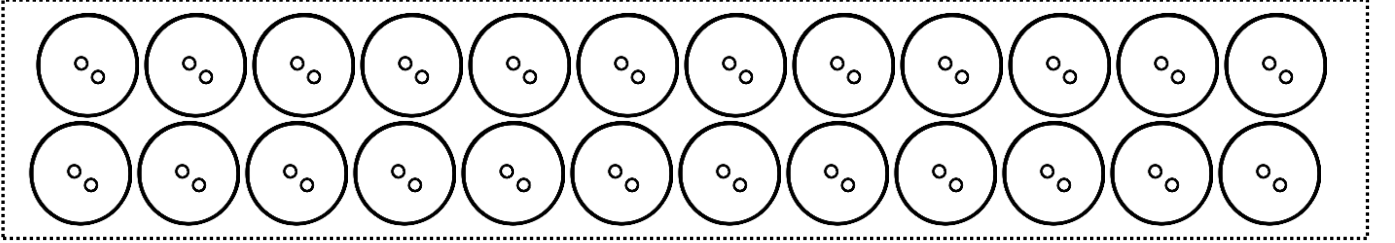
Aşağıdaki nesne gruplarının hangilerinin **1 deste** olduğunu bulup işaretleyiniz.



Aşağıdaki kalemlerin **1 destesini** boyayınız.



Aşağıdaki düğmelerin **2 destesini** boyayınız.

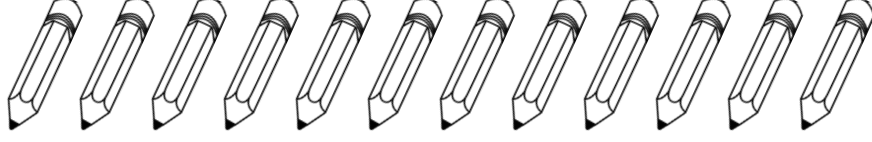


Aşağıdaki boşlukları doldurunuz.

- 2 destede.....tane nesne vardır.
- 1 destedetane nesne vardır.
- 2 deste + 4 =..... eder.
- Aynı türden tane nesne 1 deste oluşturur.
- 4 deste+ 5=eder.

DÜZİNE


Düzine: Aynı türden 12 varlığın oluşturduğu gruba düzine denir.



Annemize vermek için aşağıdaki güllerin **1 düzinesini** boyayınız.



Ali **2 düzine** defter aldı. Aşağıdaki defterlerden Ali'nin aldığı defter sayısı kadar boya.



Aşağıdaki boşlukları doldurunuz.

- a) 2 düzinede.....tane nesne vardır.
- b) 1 düzinede.....tane nesne vardır.
- c) 1 düzine + 4 =..... eder.
- ç) Aynı türden tane nesne 1 düzine oluşturur.
- d) 2 düzine + 2= eder.

Aşağıdaki cümleleri oku. Cümleler doğruysa "D.", yanlışsa "Y." yaz.

- () Deste düzineden azdır.
- () 1 deste 1 düzineye eşittir.
- () 2 deste 1 düzineye eşittir.
- () Düzine desteden fazladır.