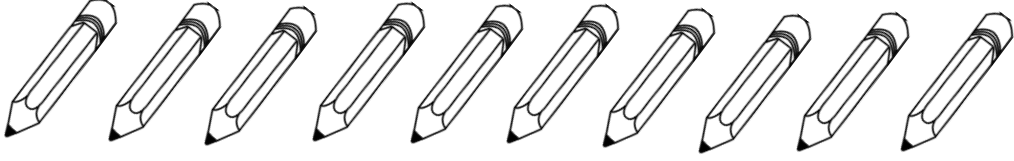


DESTE VE DÜZİNE NEDİR?

Deste: Aynı türden 10 tane varlığın oluşturduğu topluluğa **1 deste** denir.



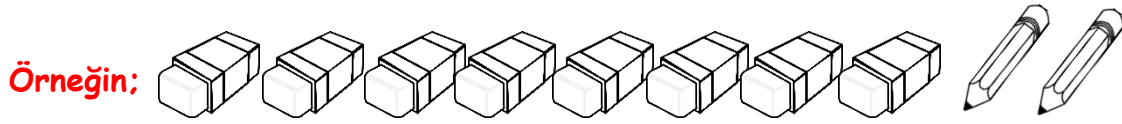
On tane kalem **1 deste** eder.

1.) İki destede kaç kalem vardır?

1.) İki destede tane kalem vardır.

Önemli

Aynı tür 10 varlık bir deste eder. Buna dikkat edelim.




8 tane silgi, 2 tane kalem ile bir deste oluşturamayız.

2.) İki deste kalemin 5 tanesini arkadaşşıma verdim kaç kalemin kaldı?

3.) 2 destenin içinde kaç birlik vardır?

DÜZİNE

Aynı türden 12 tane varlığın oluşturduğu topluluğa **1 düzine** denir.



Bir düzine balon 12 tanedir.

Aynı tür varlıkların bir düzine oluşturduğuna dikkat edelim.


1) İki düzine kalemin 4 tanesini arkadaşşıma verdim kaç kalemin kaldı?

Öğrendiklerimizi hatırlayalım :

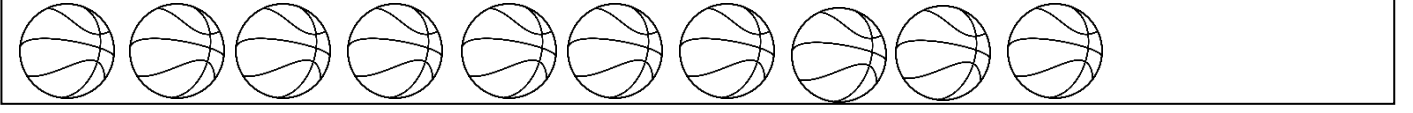
❖ Aynı türden 10 varlığa **deste**, 12 varlığa ise **düzine** denir.

DESTE VE DÜZİNE


1) Aşağıdaki anahtarların bir **destesini** boyayınız.




2) Aşağıdaki topları **düzineye** tamamlayınız.



3) Aşağıdaki çiçeklerin iki **destesini** boyayınız



4) Aşağıdaki boşluğa bir **deste** olacak şekilde nesne çiziniz.



5) Aşağıdaki boşluğa bir **düzine** olacak şekilde nesne çiziniz.



6) Bir vazoda iki desteden 5 eksik çiçek vardır. Bu vazoda kaç çiçek vardır?

7) Bir kırtasiyeci aldığı iki deste silginin 7 tanesini satmıştır. Satması gereken kaç silgi kalmıştır?

8) Annem bana iki deste balon aldı. Dedem de 4 tane balon aldı. Toplam kaç balonum oldu?

9) 8 deftere kaç defter daha eklersek bir **düzine** defter eder?

10) Bir basamaklı en büyük sayıyı bir düzineye tamamlamak için sayıya kaç eklemeliyiz?

11) İki düzine defterin 4 fazlası kaç defterdir?