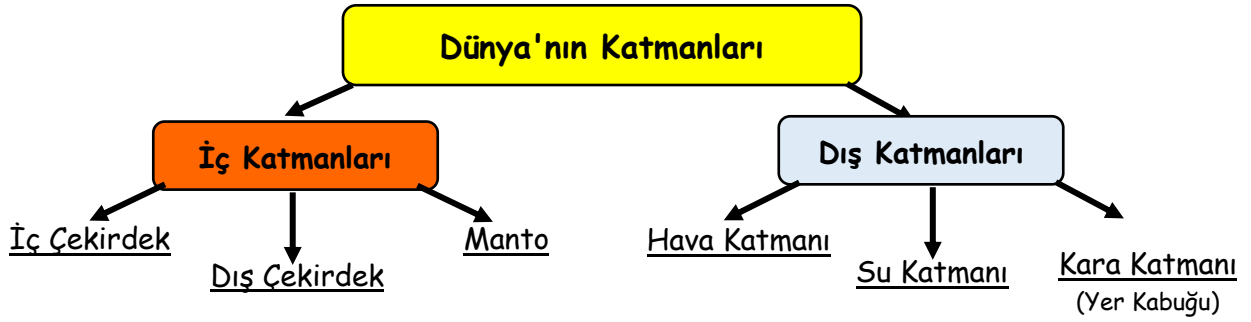
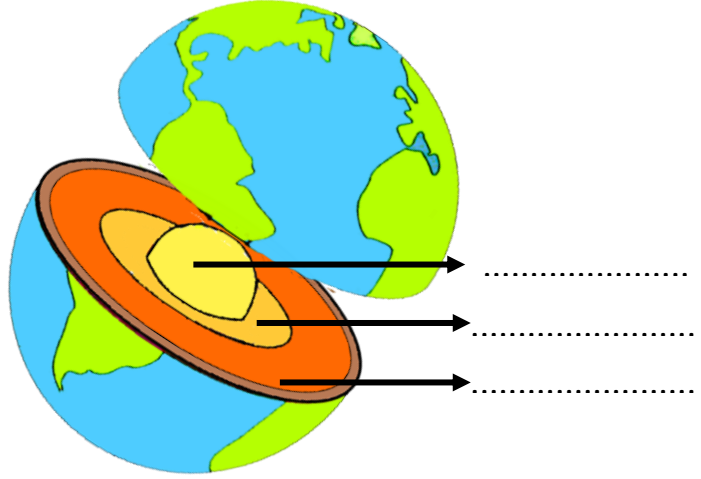


# DÜNYA'NIN KATMANLARI

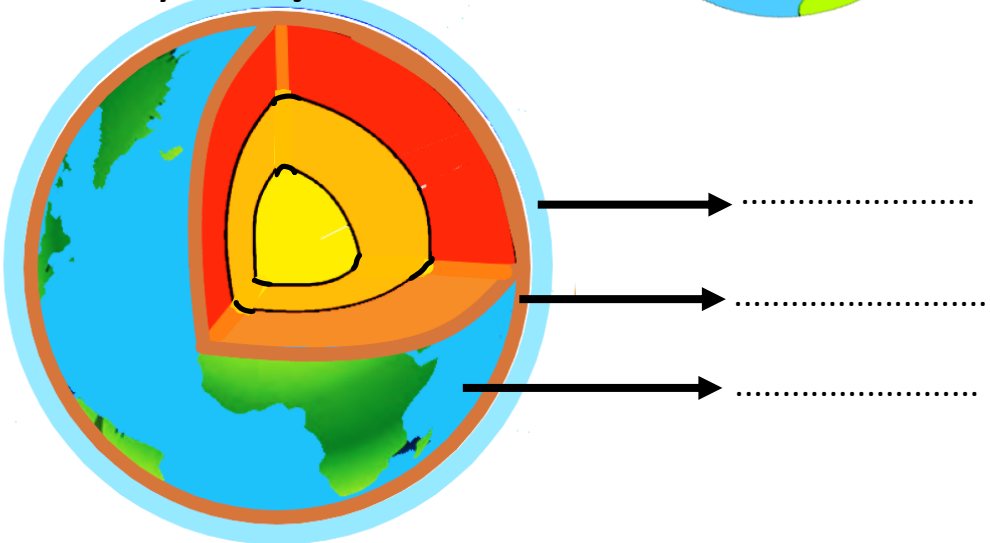


Aşağıdaki noktalı yerlere uygun ifadeleri yazalım.

## Dünya'nın İç Katmanları



## Dünya'nın Dış Katmanları



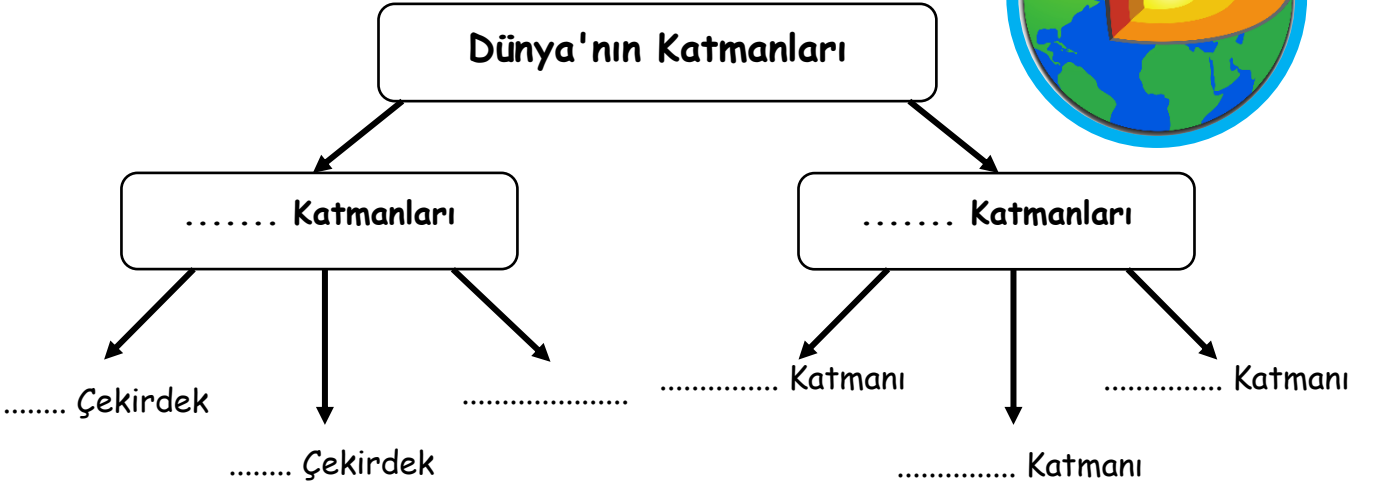

Aşağıdaki cümleleri verilen kelimelerden uygun olanıyla tamamlayalım.

**dış çekirdek - atmosfer - manto - hava - kara- iç çekirdek**

- Dünya'nın merkezinde yer alan katmana ..... denir.
- Dünya üzerinde, etrafımız hava ile sarılıdır. İşte bu katmana ..... katmanı denir.
- Dünya'nın yüzeyini oluşturan ve canlıların yaşadığı katmana ..... katmanı denir.
- Yağmur, rüzgâr gibi hava olaylarının gerçekleştiği hava katmanına ..... de denir.
- İç çekirdeği saran katmana ..... denir.
- Dış çekirdek ile yer kabuğu arasında yer alan katmana ..... denir.

# DÜNYA'NIN KATMANLARI

Aşağıdaki noktalı yerlere uygun kelimeleri yazalım.



Aşağıdaki cümleleri verilen kelimelerden uygun olanıyla tamamlayalım.

**taş küre** - **gazlardan** - **gözlemlenemeyen** - **küreye** - **ağır küre** - **su**

- Dünya'nın şekli ..... benzer.
- Dünya'nın en iç kısmında bulunan katmana ..... de denir.
- Dünya'nın yüzeyini oluşturan ve canlıların yaşadığı kara katmanına ..... de denir.
- Çekirdek ve magma Dünya'nın içinde yer aldığı için ..... katmanlardır.
- Hava tabaka çeşitli ..... oluşur.
- ..... katmanı Dünya yüzeyinin çoğunu kaplar.

Aşağıdaki cümleleri okuyunuz. Doğru olanların başına "D", yanlış olanların başına "Y" yazınız.

- Sıcaklık Dünya'nın merkezine doğru gittikçe artar.
- Dünya'nın merkezinde manto bulunur.
- Dünya üzerinde mavi renkte görünen kısımlar su katmanını göstermektedir.
- Dünya'nın yüzeyini kaplayan kara ve su katmanları rahatlıkla gözlemlenebilir.
- Dünya'yı saran hava tabakası canlılar için önemli değildir.
- Dünya'nın büyüklüğü ile karşılaştırıldığında yer kabuğu çok incedir.